



# Formemos 10

Formemos 10.

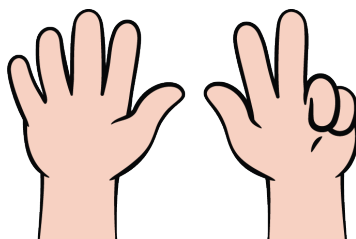




## Calentamiento

### Cuántos ves: Dedos arriba y abajo

¿Cuántos ves?

¿Cómo lo sabes?, ¿qué ves?



## Actividad 2

### Formemos 10

3 \_\_\_\_\_

$10 = \underline{\quad} + \underline{\quad}$

9 \_\_\_\_\_

$10 = \underline{\quad} + \underline{\quad}$

2 \_\_\_\_\_

$10 = \underline{\quad} + \underline{\quad}$

5 \_\_\_\_\_

$10 = \underline{\quad} + \underline{\quad}$



7 \_\_\_\_\_

$10 = \underline{\quad} + \underline{\quad}$

6 \_\_\_\_\_

$10 = \underline{\quad} + \underline{\quad}$

8 \_\_\_\_\_

$10 = \underline{\quad} + \underline{\quad}$

4 \_\_\_\_\_

$10 = \underline{\quad} + \underline{\quad}$




## Actividad 3

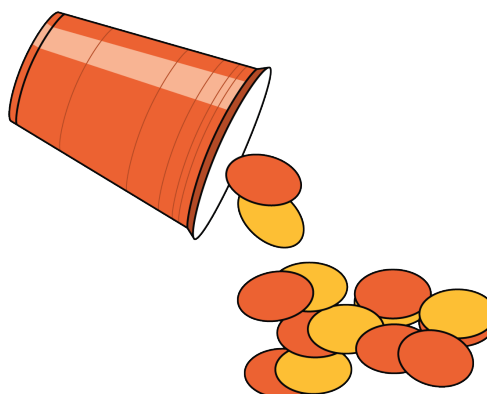
### Centros: Momento de escoger

Escoge un centro.


Dedos matemáticos



Revuelve y saca



Contar colecciones



Lanza y suma

