



Más de una manera

Encontremos más de una manera de resolver un problema.



Conversación numérica: Expresiones

Encuentra el valor de cada expresión.

- $3 + 1$

- $1 + 3$

- $4 - 1$

- $4 + 1$

Actividad 1

Frutas cítricas

Han tiene 9 frutas.

Algunas son mandarinas satsumas.

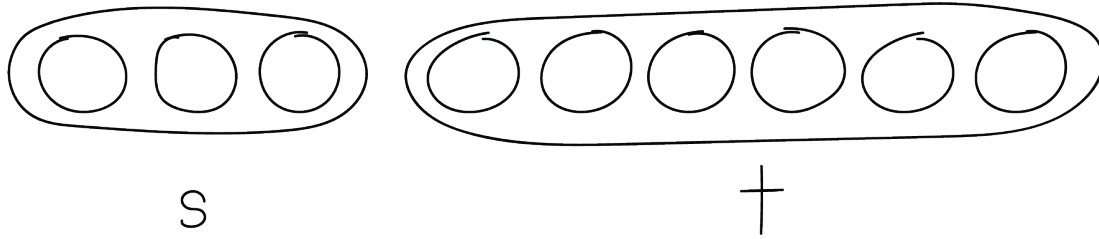
El resto son toronjas.

¿Cuántas son mandarinas satsumas?

¿Cuántas son toronjas?



Clare:



Diego:



Muestra cómo pensaste. Usa objetos, dibujos, números o palabras.

Expresión: _____

Actividad 2

Dátiles para rellenar

Andre y su hermano tienen 8 dátiles.

Rellenan algunos con queso.

Rellenan el resto con almendras.

¿Cuántos rellenaron con queso?

¿Cuántos rellenaron con almendras?

Expresión: _____

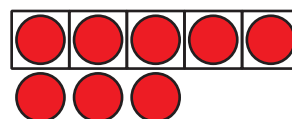


Actividad 3

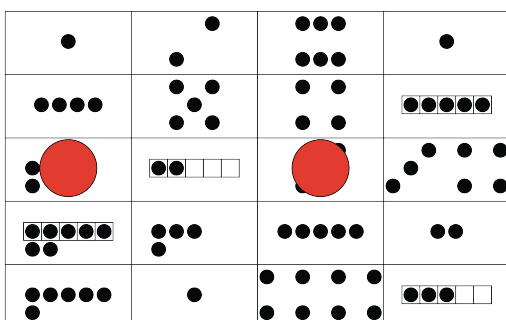
Centros: Momento de escoger

Escoge un centro.

¿Qué hay a mis espaldas? Tableros de 5



Formar o separar números



Historias matemáticas

