



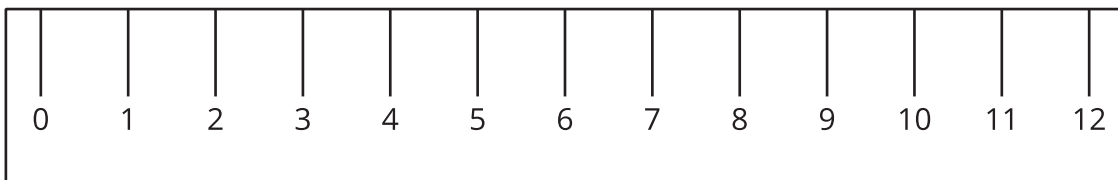
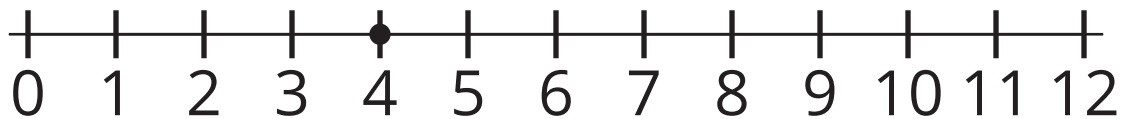
# Números enteros en la recta numérica

Representemos números en una recta numérica.

## Calentamiento

### Observa y pregúntate: Reglas y rectas numéricas

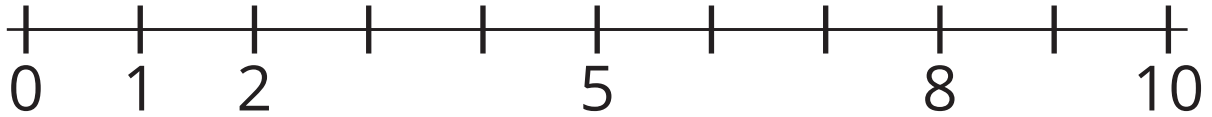
¿Qué observas? ¿Qué te preguntas?



## Actividad 1

### ¿Qué es una recta numérica?

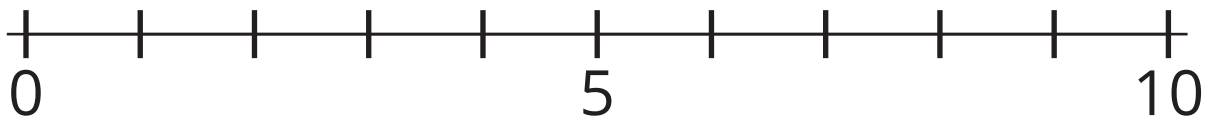
1. Escribe debajo de cada marca el número que representa.



2. Ubica el 6. Márcalo con un punto.

3. Ubica un número que sea mayor que 6. Márcalo con un punto.

4. Escribe debajo de cada marca el número que representa.



5. Ubica el 9. Márcalo con un punto.

6. Ubica un número que sea menor que 9. Márcalo con un punto.

## Actividad 2

### Haz tu propia recta numérica

1. Haz una recta numérica que vaya de 0 a 20.
2. Ubica el 13. Márcalo con un punto.
3. Ubica el 3. Márcalo con un punto.
4. Compara rectas numéricas con tu compañero.

