



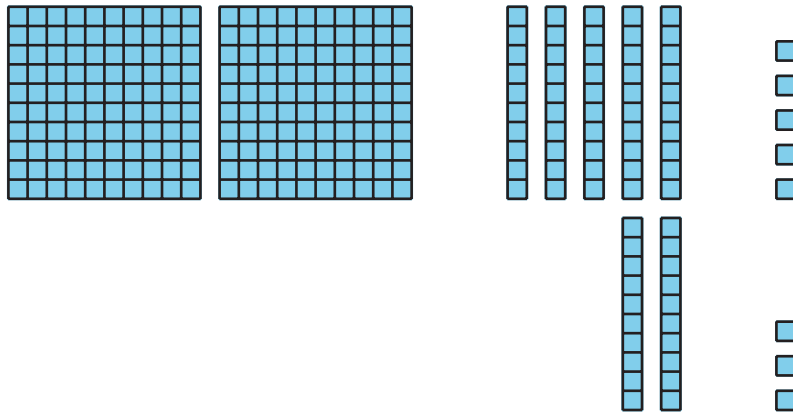
# Compongamos decenas y centenas para sumar

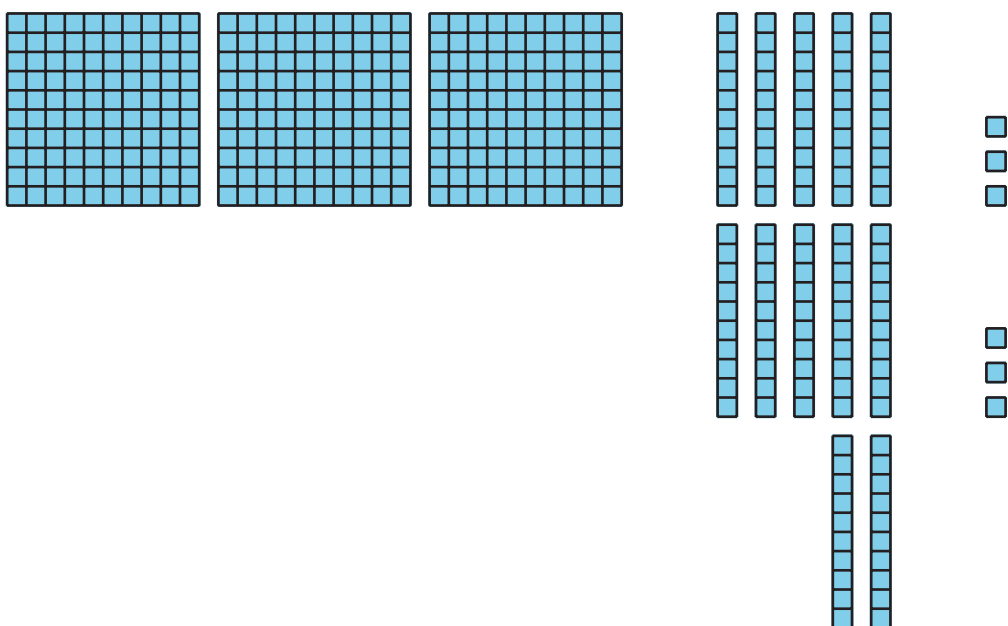
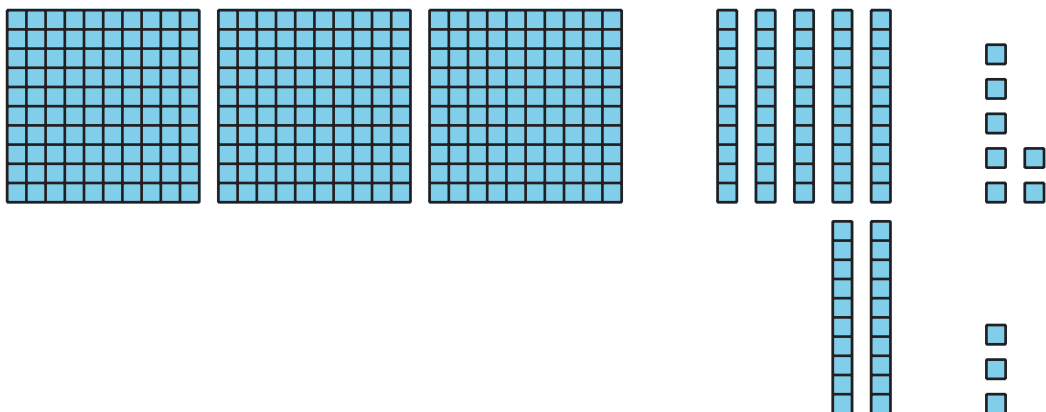
Compongamos decenas y centenas para sumar.

Calentamiento

## Cuántos ves: Muchas decenas

¿Cuántos ves? ¿Cómo lo sabes?, ¿qué ves?





## Actividad 1

### Comparemos las sumas

Encuentra el valor de cada suma. Muestra cómo pensaste. Usa objetos, dibujos, números o palabras.

1.  $273 + 18$

2.  $273 + 81$




3.  $273 + 88$

4. ¿En qué se parecen las sumas? ¿En qué son diferentes?

---

---

---

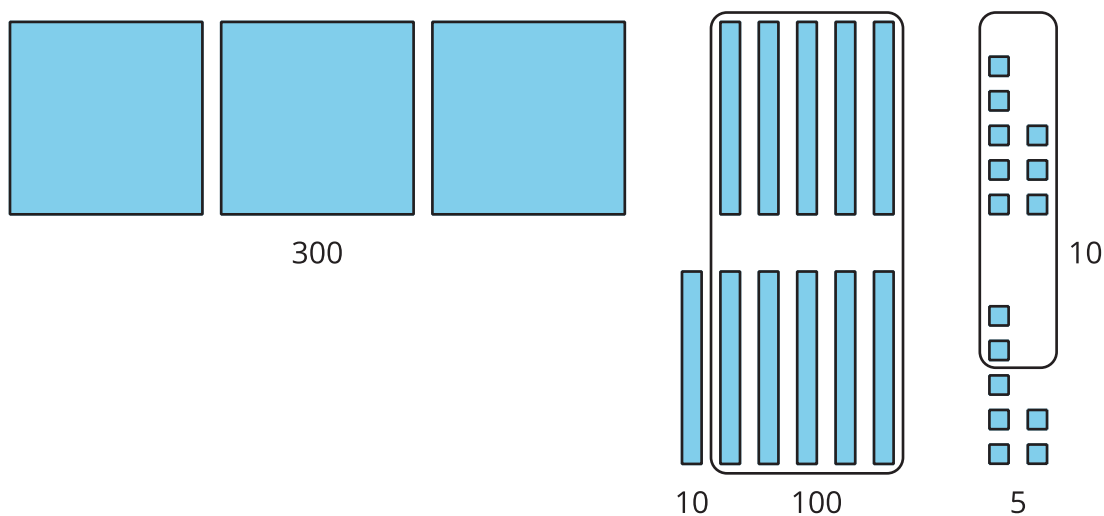


## Actividad 2

### Diferentes formas de mostrar cómo pensaste

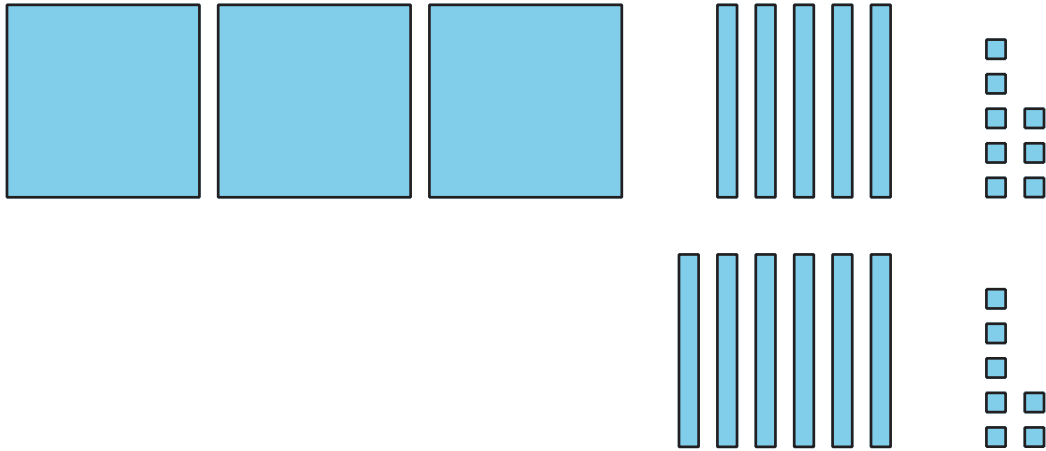
1. Priya y Lin encuentran el valor de  $358 + 67$ .

El trabajo de Priya



$$\begin{aligned} 300 + 100 + 10 + 10 + 5 \\ 400 + 20 + 5 = 425 \end{aligned}$$

## El trabajo de Lin



3 centenas + 11 decenas + 15 unidades  
11 decenas = 110  
15 unidades = 15  
 $300 + 110 + 15 = 425$

¿En qué se parecen el trabajo de Priya y el de Lin? ¿En qué son diferentes? Explica tu razonamiento.

---

---

---

2. Encuentra el valor de  $546 + 86$ .

Muestra cómo pensaste. Usa objetos, dibujos, números o palabras.