



Identifiquemos y describamos figuras sólidas

Formemos y hablemos de figuras sólidas.



Calentamiento

Conversación numérica: Sumemos hasta 5

Encuentra el valor de cada expresión.

- $2 + 3$

- $3 + 2$

- $4 + 1$


- $5 + 0$

Actividad 3


Centros: Momento de escoger

Escoge un centro.

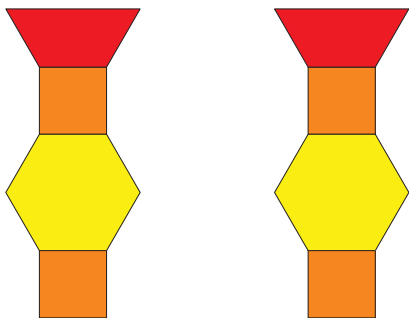
Bloques sólidos
geométricos



Contar colecciones



Haz una como la mía



Revuelve y saca

