



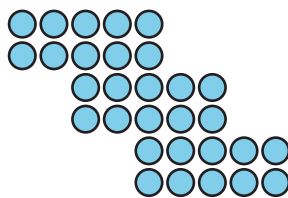

Representemos y resolvamos problemas de multiplicación

Representemos y resolvamos problemas en los que hay grupos iguales.

Calentamiento

Cuántos ves: Muchos puntos


¿Cuántos ves? ¿Cómo lo sabes?, ¿qué ves?



Actividad 1

Las cajas de Tyler

Tyler tiene 3 cajas. En cada caja hay 5 pelotas de béisbol. ¿Cuántas pelotas de béisbol tiene en total? Muestra cómo pensaste. Usa diagramas, símbolos u otras representaciones.



Actividad 2

Resolvamos problemas de grupos iguales

Resuelve cada problema. Muestra cómo pensaste. Usa diagramas, símbolos u otras representaciones.

1. Hay 4 campos de fútbol. Hay 2 equipos en cada campo. ¿Cuántos equipos hay en total?
2. Hay 7 ventanas. Cada ventana tiene 2 piezas de vidrio. En total, ¿cuántas piezas de vidrio hay en las ventanas?



3. Jada tiene 5 bolsas. Cada bolsa tiene 10 aretes. ¿Cuántos aretes tiene Jada?
4. Kiran tiene 4 cajas. En cada caja hay 5 lápices. ¿Cuántos lápices tiene Kiran?
5. Andre tiene 3 bolsas de zanahorias. En cada bolsa hay 10 zanahorias. ¿Cuántas zanahorias tiene Andre?