



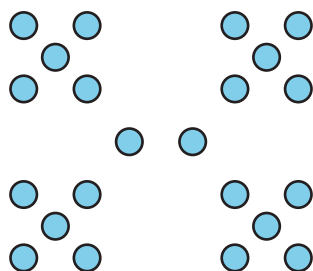
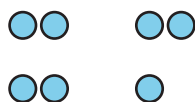
Respondamos preguntas sobre gráficas de barras con escala

Respondamos preguntas sobre datos representados en gráficas de barras.

Calentamiento

Cuántos ves: Grupos de puntos

¿Cuántos ves? ¿Cómo lo sabes?, ¿qué ves?



Actividad 1

Preguntas sobre la estación favorita del año

Usa tu gráfica sobre las estaciones favoritas del año para responder las preguntas. Muestra cómo pensaste. Usa expresiones o ecuaciones.

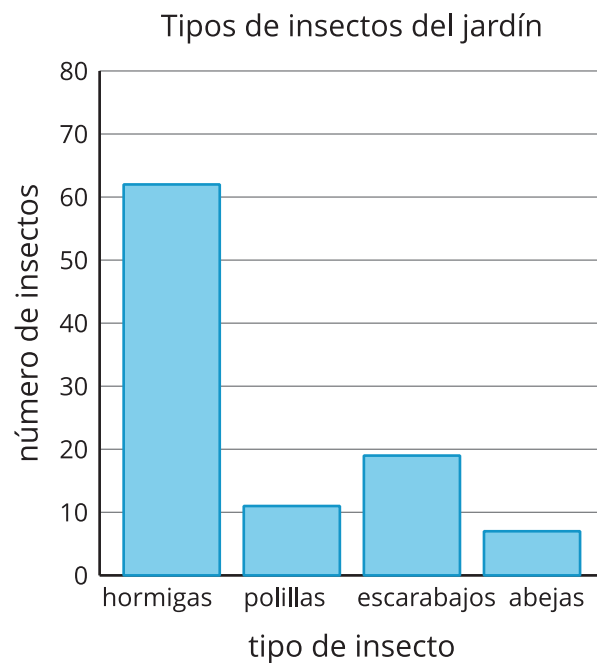
1. ¿Cuántos estudiantes están representados en la gráfica?
2. ¿Cuántos estudiantes escogieron primavera u otoño como su estación favorita?
3. ¿Cuántos estudiantes más escogieron verano que invierno?
4. ¿Cuántos estudiantes menos escogieron primavera que otoño?



Actividad 2

Preguntas sobre insectos del jardín

Se recolectaron datos para saber cuántos insectos de cada tipo había en un jardín. Los datos se muestran en esta gráfica de barras:



Usa la gráfica de barras para contestar las preguntas. Muestra cómo pensaste. Usa expresiones o ecuaciones.

1. ¿Cuántos insectos había en el jardín?
2. ¿Cuántas hormigas más que abejas había en el jardín?

3. ¿Cuántas polillas menos que hormigas había?

4. Con tu pareja, escriban 2 preguntas que se puedan responder leyendo la gráfica.

5. Intercambien las preguntas con las de otra pareja y contéstenlas.

