



# Encontremos el número con el que se forma 10

Sumemos para formar 10.


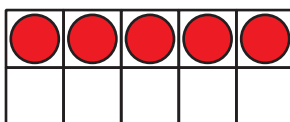

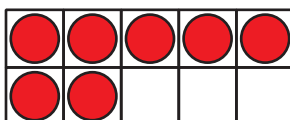
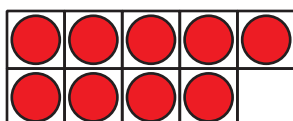


## Calentamiento

### Cuántos ves: Formemos 10

¿Cuántos ves?

¿Cómo lo sabes?, ¿qué ves?



## Actividad 1

### Coloreemos el número con el que se forma 10

- Compañero A: colorea 1 número.
- Compañero B: colorea otro número para formar 10. Usa el mismo color.
- Háganlo por turnos. Cambien de color.

|    |   |   |   |
|----|---|---|---|
| 10 | 5 | 3 | 2 |
| 7  | 1 | 9 | 8 |
| 4  | 8 | 9 | 4 |
| 6  | 2 | 3 | 0 |
| 1  | 7 | 5 | 6 |

Forma 10.

Completa la ecuación.

$$10 = \underline{\quad\quad} + \underline{\quad\quad}$$

## Actividad 2

### Sumemos para formar 10

Forma 10.

•  $10 = 9 + \underline{\hspace{2cm}}$

•  $10 = 3 + \underline{\hspace{2cm}}$

•  $10 = 5 + \underline{\hspace{2cm}}$

•  $10 = 4 + \underline{\hspace{2cm}}$

•  $10 = 8 + \underline{\hspace{2cm}}$

•  $10 = 7 + \underline{\hspace{2cm}}$

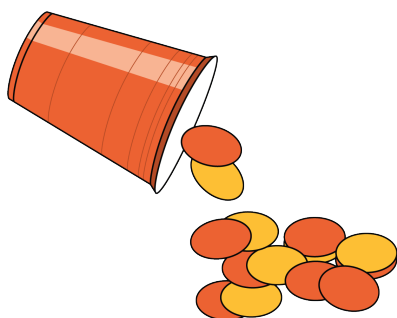


## Actividad 3

### Centros: Momento de escoger

Escoge un centro.


Revuelve y saca



Carrera con números



Agarra y cuenta



¿Qué hay a mis espaldas?



Fichas geométricas

