

# Problemas sobre mascotas

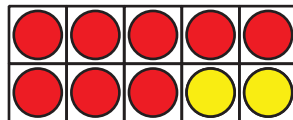
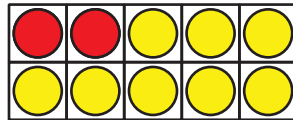
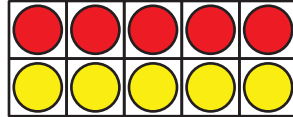
Comparemos distintas maneras de resolver problemas.

# Calentamiento

## Cuántos ves: Fichas de dos colores

¿Cuántos ves?

¿Cómo lo sabes?, ¿qué ves?



## Actividad 1

### Tres lecturas: Los peces de Kiran

Kiran tiene algunos peces en su pecera.

Tiene 4 peces rojos y 5 peces azules.

¿Cuántos peces tiene en total?

Muestra cómo pensaste. Usa dibujos, números o palabras.



## Actividad 2

### Las mascotas de Tyler y Clare

Tyler y Clare quieren saber cuántas mascotas tienen juntos.

Tyler tiene 2 tortugas.

Clare tiene 4 perros.

Tyler escribe  $2 + 4$ .

Clare escribe  $4 + 2$ .

¿Con quién estás de acuerdo?

Muestra cómo pensaste. Usa objetos, dibujos, números o palabras.