

Section C: Practice Problems

1. a. ¿Cuál número es mayor, 54 o 36?
Muestra cómo pensaste. Usa dibujos, números o palabras.

- b. ¿Cuál número es menor, 25 o 52?
Muestra cómo pensaste. Usa dibujos, números o palabras.

(de la Unidad 4, Lección 14)

2. Decide si cada afirmación es verdadera o falsa.

Muestra cómo pensaste. Usa dibujos, números o palabras.

a. $35 < 29$

b. $72 = 27$

c. $81 > 77$

(de la Unidad 4, Lección 15)

3. Escribe $<$, $>$ o $=$ en cada espacio en blanco para que la afirmación sea verdadera.

a. 47 _____ 43

b. 73 _____ 63

c. 85 _____ 85

d. 9 _____ 96

(de la Unidad 4, Lección 16)

4. Ordena los números de menor a mayor:

73 16 84 9 87 75 33


(de la Unidad 4, Lección 17)

5. Exploración


Noah dice que hay más cubos encajables en B porque tiene más decenas que A. ¿Estás de acuerdo con Noah?

Muestra cómo pensaste. Usa dibujos, números o palabras.

A





B



6. Exploración

Andre resolvió correctamente este problema, pero su hermano derramó agua sobre algunos números.

Marca los números que son
mayores que  pero menores  que

Andre marcó:



¿Qué números podrían estar bajo las manchas?

Muestra cómo pensaste. Usa dibujos, números o palabras.