

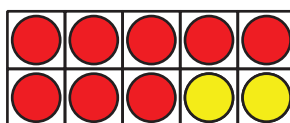
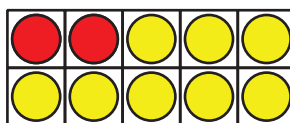
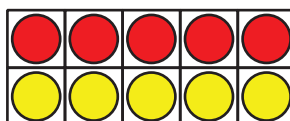
Lección 7: Revuelve y saca

- Pensemos sobre separar números y juntarlos de nuevo.

Calentamiento: Cuántos ves: Fichas de dos colores

¿Cuántos ves?

¿Cómo lo sabes?, ¿qué ves?



7.1: Retomemos “Revuelve y saca: Representa”

número total de fichas	fichas rojas	fichas amarillas	ecuaciones




Ronda 1:

número total de fichas	fichas rojas	fichas amarillas	ecuaciones
9			
9			
9			
9			
9			
9			

7.2: Problemas-historia de “Revuelve y saca”

1. Elena está jugando “Revuelve y saca”.

Ella tiene 7 fichas.




¿De qué maneras podrías mostrar algunas rojas y algunas amarillas?

Muestra lo que pensaste. Usa dibujos, números o palabras.

Escribe una ecuación para mostrar cada combinación.

2. Tyler está jugando Revuelve y saca.
 En su primera ronda sacó estas fichas:



Escribe 2 ecuaciones para mostrar sus fichas.

Muestra otras combinaciones de fichas rojas y amarillas que Tyler podría sacar.

Muestra lo que pensaste. Usa dibujos, números o palabras.

Escribe una ecuación para mostrar cada combinación.

Si te queda tiempo, resuelve los siguientes problemas.

1. ¿Cuáles son todas las combinaciones que Elena puede obtener?

¿Cómo lo sabes?

2. ¿Cuáles son todas las combinaciones que Tyler puede obtener?

¿Cómo lo sabes?
