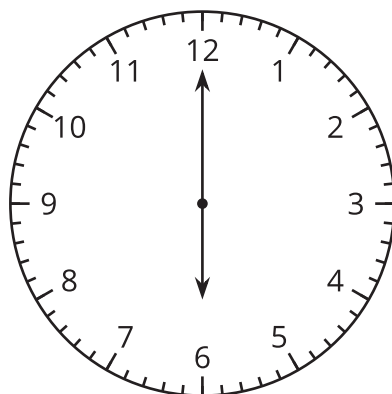
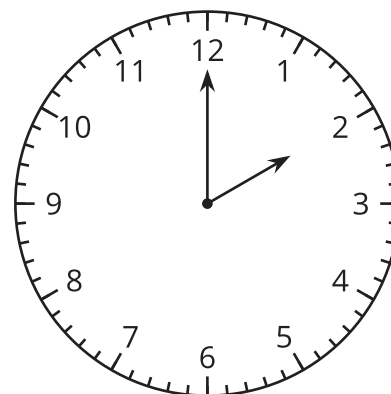


## Section C: Practice Problems

1. a. ¿Qué hora muestra cada reloj?



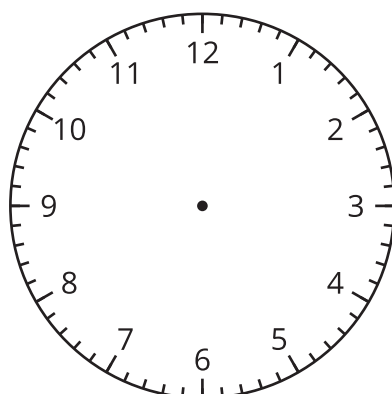
\_\_\_\_:\_\_\_\_



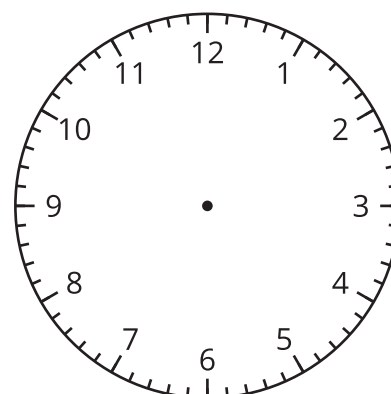
\_\_\_\_:\_\_\_\_

b. Muestra cada hora.

3:00

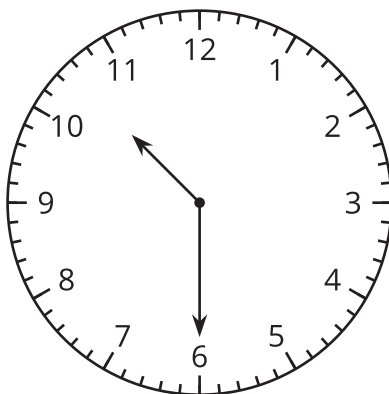


7:00



(de la Unidad 7, Lección 13)

2. Han dice que el reloj muestra las 11 y media.



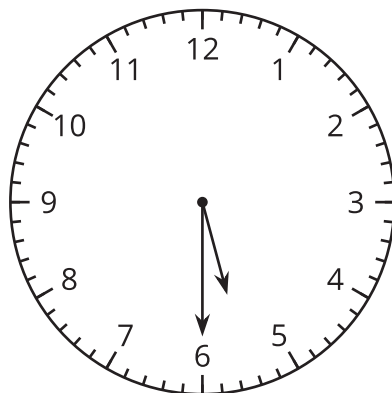
¿Estás de acuerdo con Han?

Muestra cómo pensaste. Usa dibujos, números o palabras.

(de la Unidad 7, Lección 14)

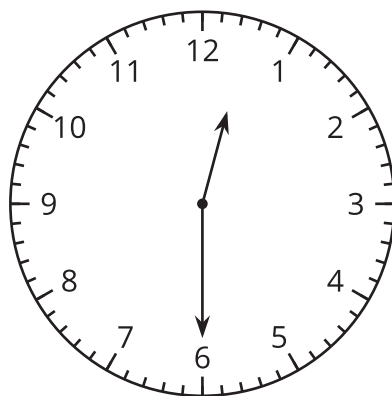
3. ¿Qué hora muestra cada reloj?

a.



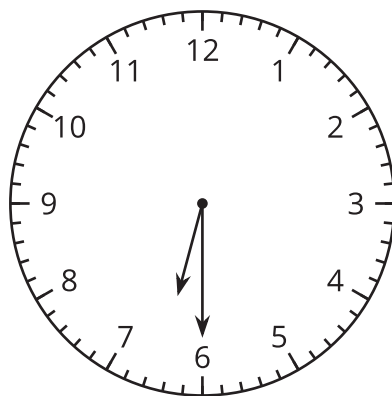
---

b.



---

c.



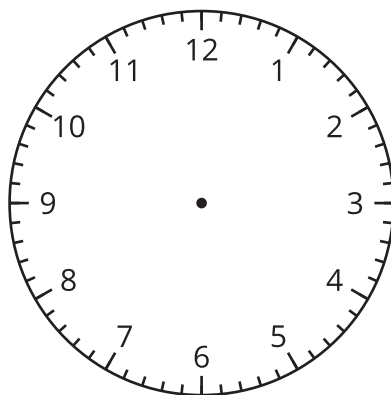
---

(de la Unidad 7, Lección 15)

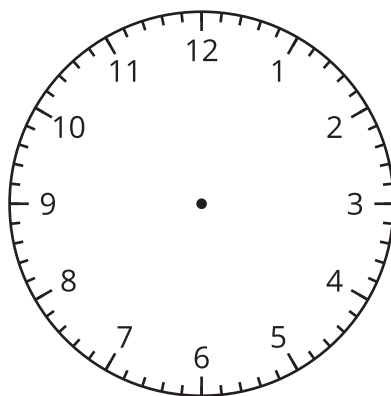
## 4. Exploración

Muestra una hora del día a la que podrías hacer cada una de estas cosas.

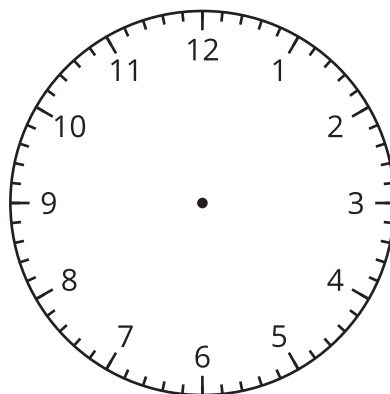
a. levantarte en la mañana



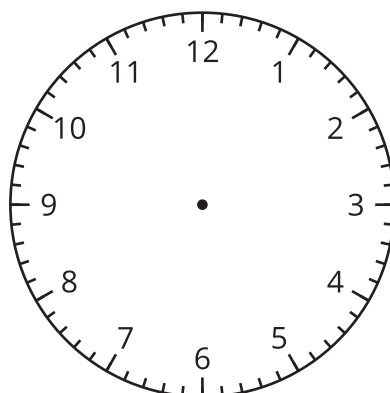
b. ir a la escuela



c. comer la merienda



d. ir a recreo



e. almorzar

