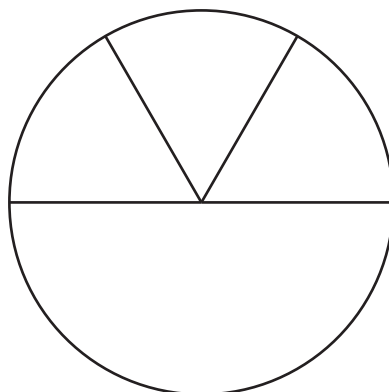


Section B: Practice Problems

1. a. Han hizo este dibujo para mostrar un círculo partido en cuartos.



¿Estás de acuerdo con Han?


Muestra cómo pensaste. Usa dibujos, números o palabras.

- b. Parte el rectángulo en cuartos.



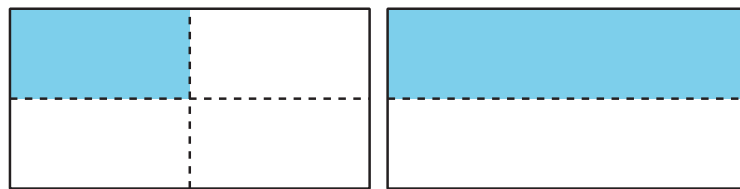
(de la Unidad 7, Lección 9)

2. a. Parte el círculo en cuartos.
b. Colorea cuatro de los cuartos.



(de la Unidad 7, Lección 10)

3. a. ¿Cuánto de cada rectángulo está sombreado?



- b. Marca el rectángulo que tiene la pieza sombreada más grande.

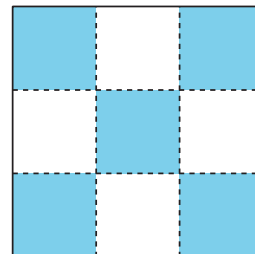
(de la Unidad 7, Lección 10)

4. Exploración

a. Kiran dice que la mitad del cuadrado está sombreada.

¿Estás de acuerdo con Kiran?

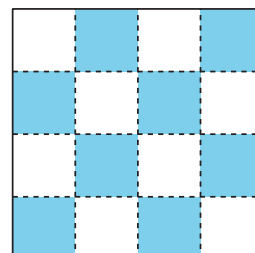
Muestra cómo pensaste. Usa dibujos, números o palabras.



b. Priya dice que la mitad del cuadrado está sombreada.

¿Estás de acuerdo con Priya?

Muestra cómo pensaste. Usa dibujos, números o palabras.



5. Exploración

¿Han se pregunta si la mitad del círculo está sombreada.
¿Qué crees?

