



# Hagamos imágenes de puntos



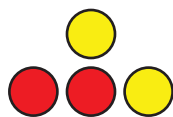
Hagamos grupos de puntos.



## Cuántos ves: Puntos de distintos colores

¿Cuántos ves?

¿Cómo lo sabes?, ¿qué ves?



## Actividad 3

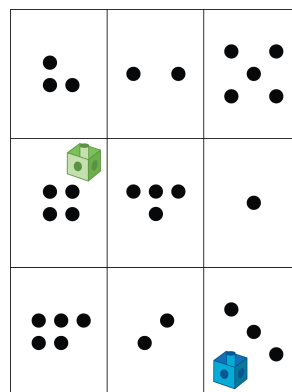
### Centros: Momento de escoger

Escoge un centro.

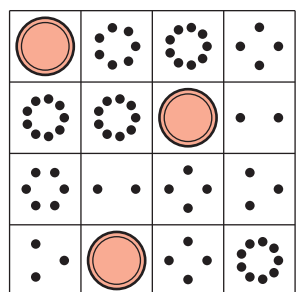
Tableros de 5




Lanza y suma



Bingo



Bloques sólidos geométricos



Encuentra el valor de expresiones

$$3+5 \quad 7-5$$