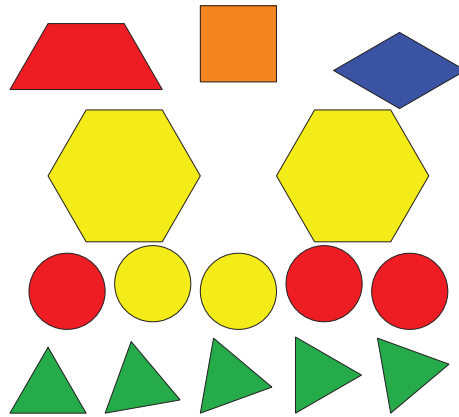


Section B: Practice Problems

1. Estos son algunos objetos.



a. ¿Cuáles son 2 categorías que puedes usar para clasificar estos objetos?

b. ¿Cuáles son otras 2 categorías que puedes usar para clasificar estos objetos?

(de la Unidad 1, Lección 7)

2. Estos son algunos objetos.



a. Muestra cómo puedes clasificar las pelotas en categorías.

b. ¿Cuántas pelotas hay en cada categoría?

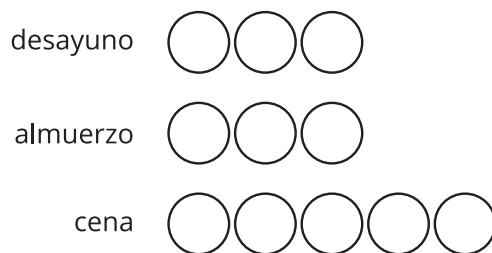
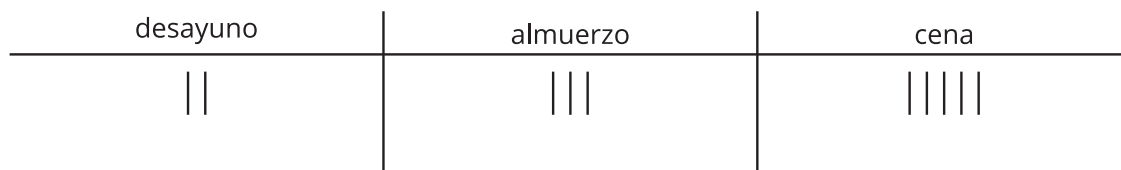
categoría 1: _____

categoría 2: _____

categoría 3: _____

(de la Unidad 1, Lección 8)

3. ¿En qué se parecen estas representaciones?
¿En qué son diferentes?



(de la Unidad 1, Lección 9)

4. Exploración

Recolecta datos de la clase o de tu casa.

Clasifica tus datos en categorías.

Muestra en una hoja cómo clasificaste los datos.

5. Exploración

Hay 15 fichas geométricas en una bolsa.

Hay cuadrados, triángulos y hexágonos.

La tabla muestra cuántos cuadrados hay en la bolsa.

Figuras geométricas en la bolsa

cuadrados	triángulos	hexágonos
7	?	?

¿Cuántos triángulos podría haber en la bolsa?

¿Cuántos hexágonos podría haber en la bolsa?

Encuentra todas las soluciones que puedas.