



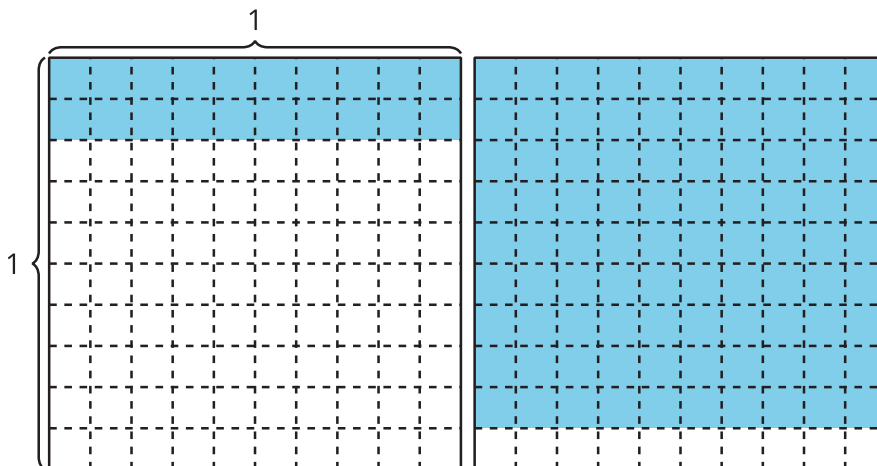
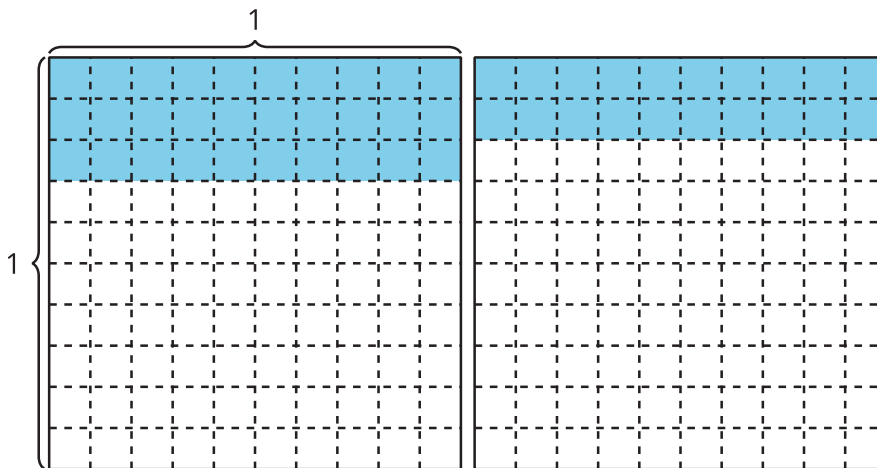
# Demos sentido a la suma de números decimales

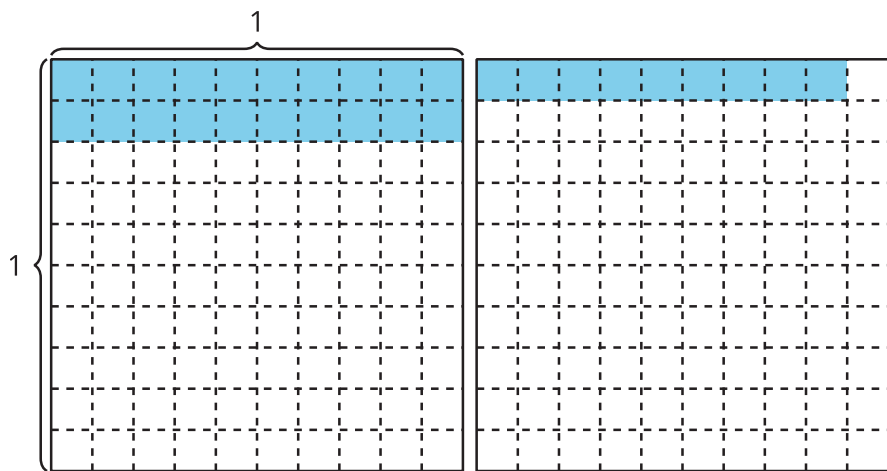
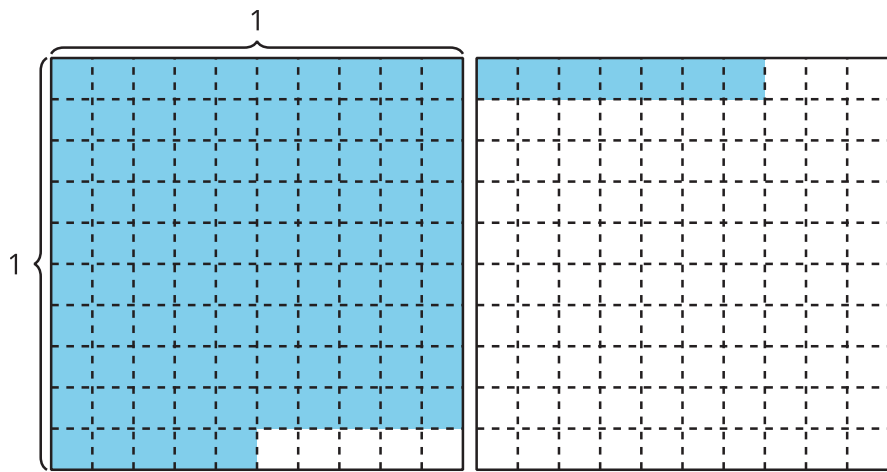
Sumemos números decimales.

## Calentamiento

### Cuántos ves: Diagramas

¿Cuántos ves? ¿Cómo lo sabes?, ¿qué ves?





## Actividad 1

### La suma

1. Encuentra el valor de la expresión. Muestra cómo pensaste. Organiza tu trabajo para que los demás puedan entenderlo. Si te ayuda, usa diagramas.

$$2.26 + 1.87$$

2. ¿Qué preguntas tienes sobre la suma de números decimales?

---

---

---

---



## Actividad 2

### Conozcamos “Números objetivo: Suma décimas o centésimas”

Instrucciones:

1. Juega una partida de “Números objetivo”.
  - Deja aparte las tarjetas que muestran el 0 y el 10.
  - Cuando sea tu turno.
    - Empieza en el 0. Toma una tarjeta de números. Decide si le sumas ese número de décimas o de centésimas al número inicial.
    - Escribe una ecuación que represente la suma.
  - La suma es el número con el que se empieza en la siguiente ecuación.
  - Juega por turnos 6 rondas con tu compañero.
  - Gana el compañero que tenga la suma más cercana a 1, sin pasarse de 1.
2. Describe una jugada que podrías haber hecho de otra forma para cambiar el resultado del juego.

---

---

---

---