

Card Sort: At the Beach, Spanish, Spanish

A

Lin encuentra 28 conchas más que
Diego.
Diego encuentra 32 conchas.
¿Cuántas conchas encuentra Lin?

Card Sort: At the Beach, Spanish, Spanish

B

Lin cuenta 28 botes.
Diego cuenta 32 botes.
¿Cuántos botes más cuenta él?

Card Sort: At the Beach, Spanish, Spanish

C

Lin observa 32 estrellas de mar.
Diego observa 28 estrellas de mar
menos que Lin.
¿Cuántas estrellas de mar observa él?

Card Sort: At the Beach, Spanish, Spanish

D

Lin encuentra 40 cangrejos
menos que Diego.
Diego encuentra 57 cangrejos.
¿Cuántos cangrejos encuentra Lin?

Card Sort: At the Beach, Spanish, Spanish

E

Lin cuenta 57 sillas de playa.
Lin cuenta 40 personas más
que sillas.
¿Cuántas personas cuenta?

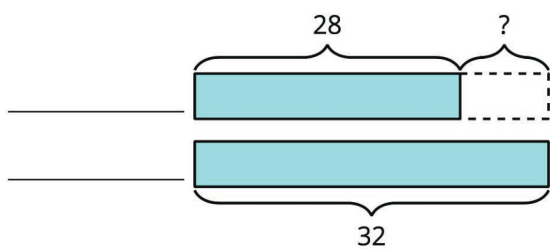
Card Sort: At the Beach, Spanish, Spanish

F

Diego ve 40 gaviotas.
Lin ve 57 gaviotas.
¿Cuántas gaviotas menos ve Diego?

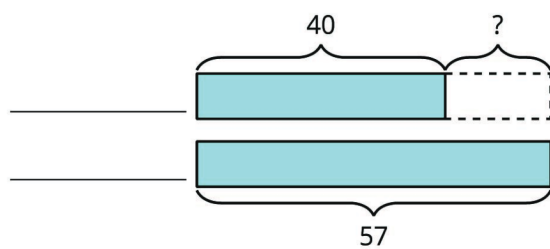
Card Sort: At the Beach, Spanish, Spanish

G



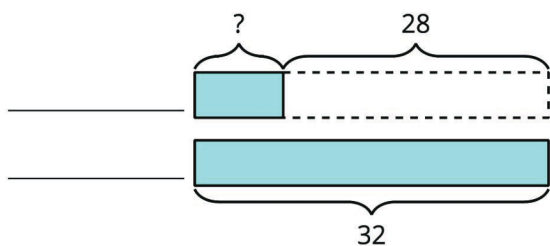
Card Sort: At the Beach, Spanish, Spanish

H



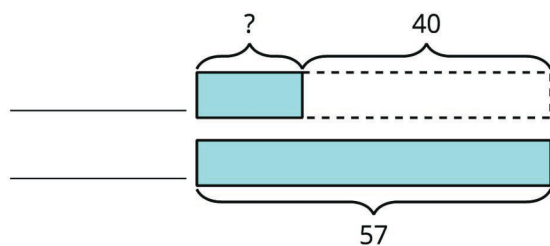
Card Sort: At the Beach, Spanish, Spanish

I



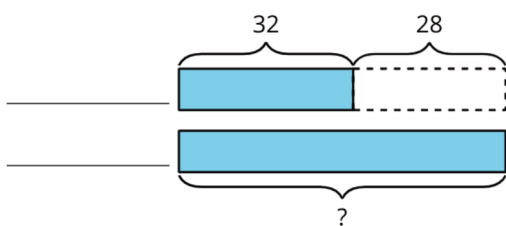
Card Sort: At the Beach, Spanish, Spanish

J



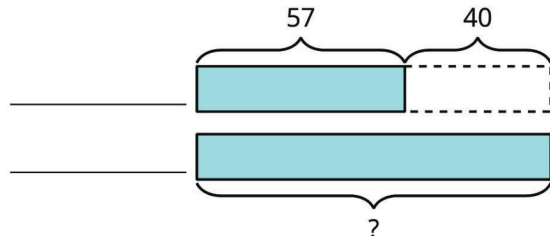
Card Sort: At the Beach, Spanish, Spanish

K



Card Sort: At the Beach, Spanish, Spanish

L



Card Sort: At the Beach, Spanish, Spanish

M

$$32 - 28 = ?$$

Card Sort: At the Beach, Spanish, Spanish

N

$$57 - 40 = ?$$

Card Sort: At the Beach, Spanish, Spanish

O

$$28 + ? = 32$$

Card Sort: At the Beach, Spanish, Spanish

P

$$40 + ? = 57$$

Card Sort: At the Beach, Spanish, Spanish

Q

$$32 + 28 = ?$$

Card Sort: At the Beach, Spanish, Spanish

R

$$57 + 40 = ?$$