



# Ubiquemos fracciones unitarias en la recta numérica

Partamos la recta numérica para ubicar fracciones unitarias.

Calentamiento

## Cuáles tres van juntos: Detalles de fracciones

¿Cuáles 3 van juntas?

**A**



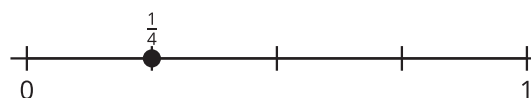
**B**



**C**



**D**



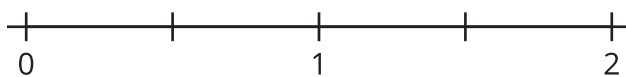
## Actividad 1

### Partamos en cuartos

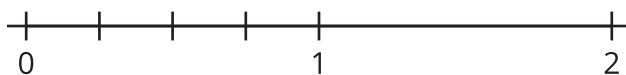
Tres estudiantes parten una recta numérica en cuartos. Este es su trabajo.



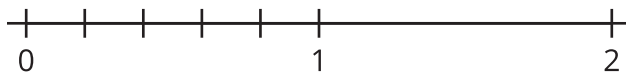
Recta numérica de Clare:



Recta numérica de Andre:



Recta numérica de Diego:



¿Cuál de estas particiones tiene más sentido para ti? Explica tu razonamiento.

---

---



---

---

## Actividad 2

### Fracciones unitarias en la recta numérica

Parte cada recta numérica. Ubica y marca cada fracción.



8.  $\frac{1}{3}$

