



# Más fichas o menos fichas

Veamos cuántas fichas geométricas hay.

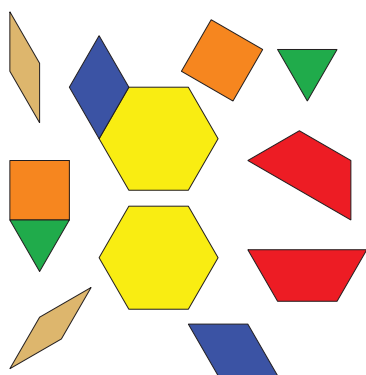


## Actividad 3


# Conozcamos “Fichas geométricas: Ubica la última ficha geométrica”

Escoge un centro.


Fichas geométricas



Bloques sólidos geométricos



Agarra y cuenta



Encuentra la pareja

