



Grupos iguales, números mayores

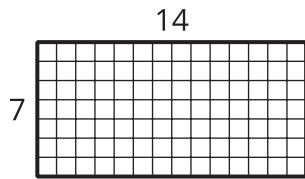
Resolvamos problemas de grupos iguales que tienen números mayores.

Calentamiento

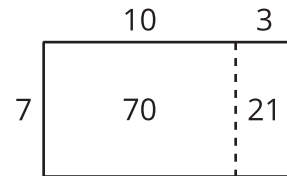
Cuáles tres van juntos: Rectángulos

¿Cuáles 3 van juntos?

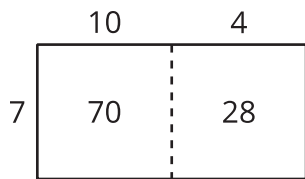
A



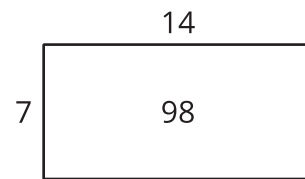
B



C



D



Actividad 1

Grupos iguales, números mayores

Resuelve cada problema. Explica o muestra tu razonamiento.

1. Un mural rectangular tiene lados que miden 17 pies y 4 pies. ¿Cuál es el área del mural?
2. Noah hace un mosaico rectangular con baldosas de 1 pulgada de lado. El mosaico tiene 12 filas y 8 columnas de baldosas. ¿Cuál es el área del mosaico?

3. Noah usa tiza para ayudar a decorar un patio rectangular que mide 6 pies de ancho y 14 pies de largo. ¿Cuál es el área del patio?
4. Noah compra un paquete de calcomanías. En el paquete hay 5 hojas y cada hoja tiene 16 calcomanías. ¿Cuántas calcomanías hay en el paquete?

Actividad 2

Recorrido por el salón: Grupos iguales, números mayores

Mientras observan los pósteres con su compañero, discutan en qué se parecen y en qué son diferentes las ideas que se muestran en ellos.