



# Estimemos y midamos en centímetros

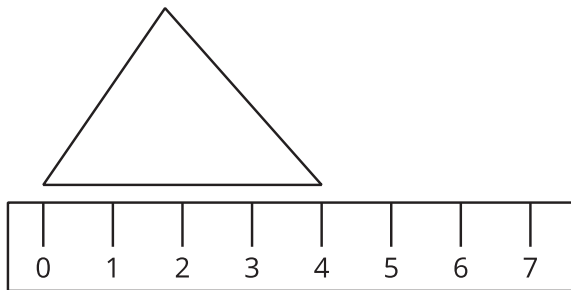
Estimemos y midamos en centímetros.

## Calentamiento

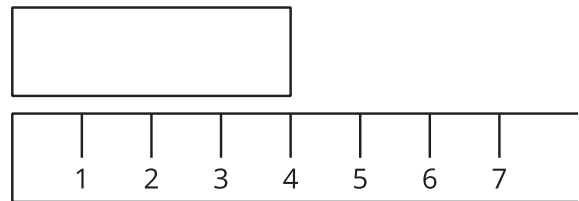
### Cuáles tres van juntos: Longitud

¿Cuáles 3 van juntas?

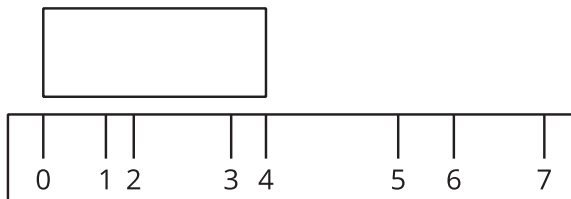
**A**



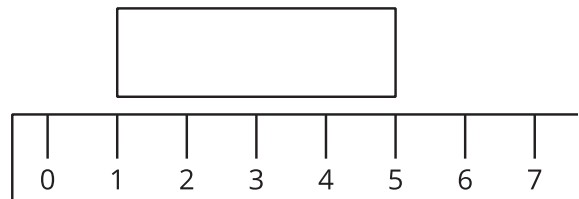
**B**



**C**



**D**



## Actividad 1

### Estimemos la longitud en centímetros

1. Escribe una estimación que sea:

muy baja	razonable	muy alta

2. Escribe una estimación que sea:

muy baja	razonable	muy alta

3. Escribe una estimación para cada objeto.

4. Cuéntale a tu compañero por qué tus estimaciones son “razonables”.

Hoja de registro

objeto	estimación	medida
Escoge un objeto:		

## Actividad 2

### Midamos y comparemos

1. Mide cada objeto y anota su medida en tu hoja de registro.  
Escribe cada longitud en centímetros.
2. Compara las medidas con tus estimaciones.

