



# Todo sobre los diagramas de cinta

Asociemos diagramas, problemas-historia y ecuaciones.

## Calentamiento

### Conversación numérica: Suma y resta

Encuentra mentalmente el valor de cada expresión.

- $7 + 13$

- $27 + 13$

- $40 - 13$

- $40 - 27$



## Actividad 1

### **Clasificación de tarjetas: Representemos problemas-historia**

Tu profesor te va a dar varias tarjetas. Asocia cada problema-historia con un diagrama y una ecuación.

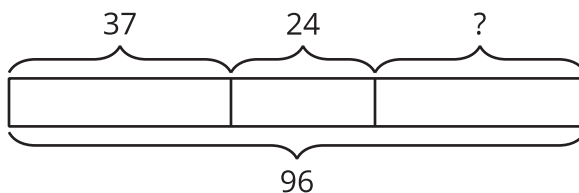


## Actividad 2

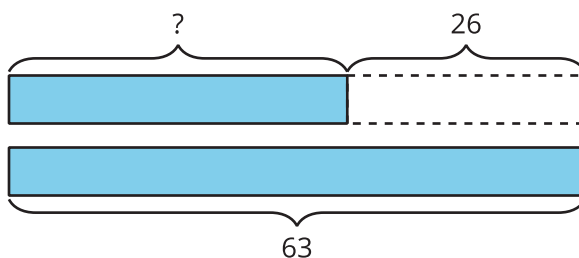
### Escribamos historias

Escoge uno de los diagramas. Escribe un problema-historia que pueda estar representado por el diagrama. Resuelve el problema.

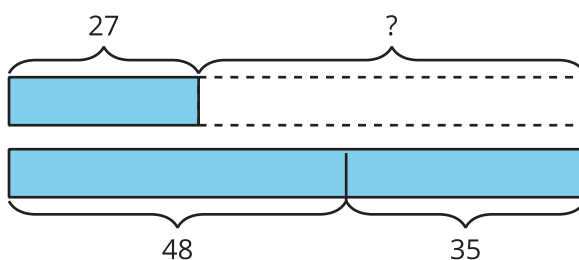
1.



2.



3.



Problema \_\_\_\_\_

---

---

---

