



# Funciones definidas a trozos

Conozcamos funciones que están definidas por partes.

## 12.1 Helado de yogur

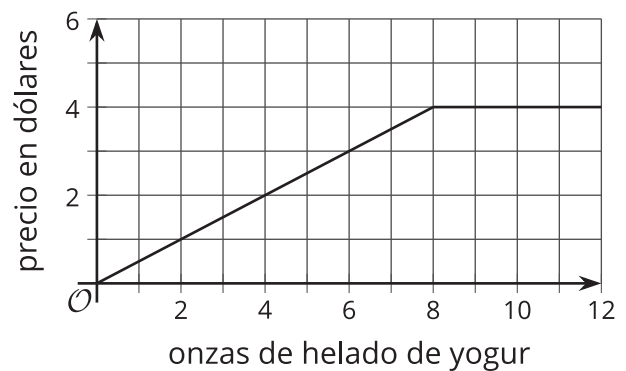
En una tienda de helados de yogur venden porciones de máximo 12 onzas. Se cobra \$0.50 por onza para porciones de 0 a 8 onzas y se cobra \$4 por una porción de más de 8 onzas y hasta 12 onzas.

¿Cuál gráfica representa el precio de la porción de helado como función de su peso? Prepárate para explicar cómo lo sabes.

**A**



**B**



**C**



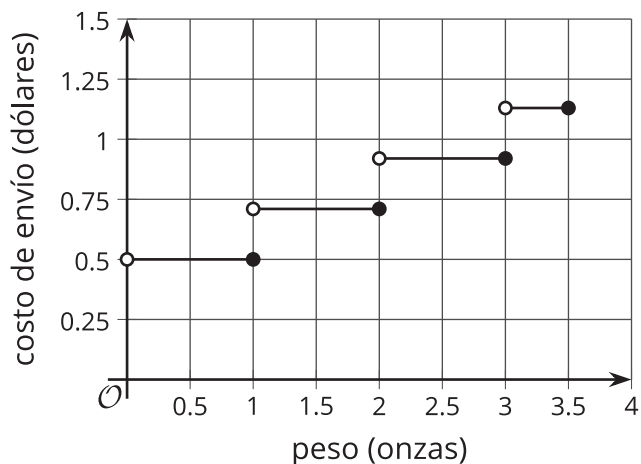
**D**



## 12.2 Costos de envío

La relación entre la tarifa de envío y el peso de una carta se puede definir con una **función definida a trozos**.

La gráfica muestra las tarifas de envío estándar de una carta, del 2018.



- ¿Cuál es el costo de envío de una carta con cada uno de estos pesos?
  - 1 onza
  - 1.1 onzas
  - 0.9 onzas
- El costo de envío de una carta es \$0.92. ¿Qué sabes acerca del peso de la carta?
- Kiran y Mai escribieron reglas para representar la función de costo de envío, pero cometieron errores al definir el dominio.

$$K(w) = \begin{cases} 0.50, & 0 \leq w \leq 1 \\ 0.71, & 1 \leq w \leq 2 \\ 0.92, & 2 \leq w \leq 3 \\ 1.13, & 3 \leq w \leq 3.5 \end{cases}$$

$$M(w) = \begin{cases} 0.50, & 0 < w < 1 \\ 0.71, & 1 < w < 2 \\ 0.92, & 2 < w < 3 \\ 1.13, & 3 < w < 3.5 \end{cases}$$

Encuentra el error que cometió cada persona y escribe una versión corregida de sus reglas.



### ¿Estás listo para más?

Esta imagen muestra las tarifas de envío del servicio postal.

Observa que para describir las distintas tarifas se escribe “Peso de no más de (oz)”.

Explica o haz un dibujo para mostrar cómo cambiaría la gráfica si el servicio postal usara “Peso de menos de (oz)” en la tabla.

---

Correo de primera clase

---

Precio unitario

---

**Cartas (con estampilla)**

Peso de no más de (oz)	Tarifa
1	\$0.50
2	\$0.71
3	\$0.92
3.5	\$1.13

## 12.3 Alquiler de bicicletas

La función  $C$  representa el costo en dólares de alquilar una bicicleta durante  $t$  minutos. Estas son las reglas que describen la función:

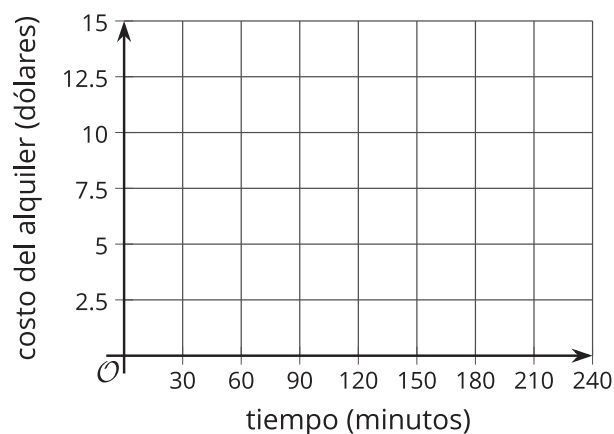
$$C(t) = \begin{cases} 2.50, & 0 < t \leq 30 \\ 5.00, & 30 < t \leq 60 \\ 7.50, & 60 < t \leq 90 \\ 10.00, & 90 < t \leq 120 \\ 12.50, & 120 < t \leq 150 \\ 15.00, & 150 < t \leq 240 \end{cases}$$



1. Completa la tabla con los costos del alquiler de la bicicleta, de acuerdo a su duración.

$t$ (minutos)	$C$ (dólares)
10	
25	
60	
75	
130	
180	

- Dibuja la gráfica de la función para los valores de  $t$  de 0 minutos a 240 minutos.



2. Describe en palabras las reglas del costo de alquilar una bicicleta.

3. Determina el dominio y el rango de esta función.

## 12.4 Juntemos los trozos

Tu profesor le va a dar a tu grupo tiras de papel con partes de la gráfica de una función. Las líneas de la cuadrícula están a 1 unidad de distancia.

Organiza las tiras de papel para formar la gráfica de cada una de las siguientes funciones.

$$f(x) = \begin{cases} -5, & -10 < x < -5 \\ x, & -5 \leq x < 0 \\ 1, & 0 \leq x < 3 \\ x - 2, & 3 \leq x < 8 \\ 6, & 8 \leq x < 10 \end{cases} \quad g(x) = \begin{cases} 5.5, & -10 < x \leq -8 \\ 4, & -8 < x \leq -3 \\ -x, & -3 < x \leq 2 \\ -3.5, & 2 < x \leq 5 \\ x - 5, & 5 < x \leq 10 \end{cases}$$

Para representar la función con precisión, asegúrate de incluir una escala en cada eje y de agregar círculos rellenos y círculos vacíos donde corresponda en la gráfica.

### Resumen de la lección 12

Una **función definida a trozos** tiene distintas descripciones, o reglas, para distintas partes de su dominio.

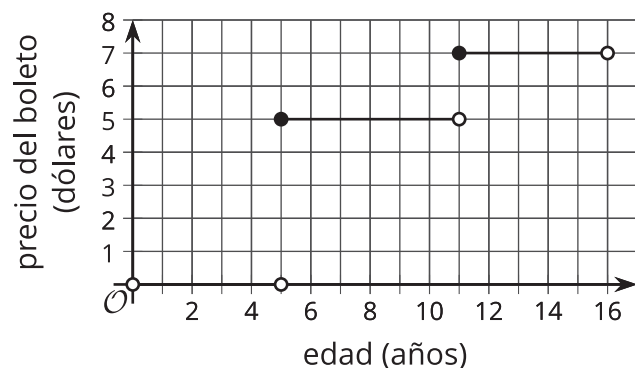
La función  $f$  da el precio de un boleto de tren, en dólares, para un niño de  $t$  años de edad basándose en estas reglas:

- Gratis para niños de menos de 5 años
- \$5 para niños de al menos 5 años pero menores de 11 años
- \$7 para niños de al menos 11 años pero menores de 16 años

Como hay precios distintos para edades distintas, esto nos dice que la función  $f$  es una función definida a trozos.

La gráfica de una función definida a trozos consta a menudo de varias partes o segmentos. Las partes pueden estar unidas o no. Cuando no están unidas, la gráfica parece tener quiebres, saltos o escalones.

Esta es la gráfica que representa  $f$ .



Es importante pensar en el valor de la función en los puntos en los que la regla cambia, o en los que la gráfica tiene un “quiebre”. Por ejemplo, cuando un niño tiene exactamente 5 años, ¿el boleto es gratis o cuesta \$5?

En la gráfica, un segmento termina en  $(5, 0)$  y otro inicia en  $(5, 5)$ , ¡pero la función no puede tener simultáneamente a 0 y 5 como salidas cuando la entrada es 5!

Según las reglas de los precios de los boletos, el boleto es gratis solo si el niño tiene menos de 5 años, lo que significa que:

- $f(5) = 0$  es falso. En la gráfica, el punto  $(5, 0)$  se marca con un círculo vacío para indicar que *no* está incluido en el primer segmento (que representa las edades que tienen derecho a un boleto gratis).
- $f(5) = 5$  es verdadero. El punto  $(5, 5)$  tiene un círculo relleno para indicar que *sí* está incluido en el segmento del medio (que representa las edades que tienen derecho al boleto de \$5).

El mismo razonamiento se puede usar al decidir cómo se deben ver  $f(11)$  y  $f(16)$  en la gráfica.

- $f(11) = 7$  es verdadero porque los niños de 11 años pagan \$7. El punto  $(11, 7)$  es un círculo relleno.
- $f(16) = 7$  es falso porque un joven de 16 años ya no tiene derecho al precio de un boleto para un niño. El punto  $(16, 7)$  es un círculo vacío.

Las reglas del precio de los boletos se pueden expresar con notación de funciones:

$$f(x) = \begin{cases} 0, & 0 < x < 5 \\ 5, & 5 \leq x < 11 \\ 7, & 11 \leq x < 16 \end{cases}$$