



# Comparemos y ordenemos números

Comparemos y ordenemos números.

Calentamiento

**Cuáles tres van juntos: Comparemos afirmaciones**

¿Cuáles 3 van juntas?

**A**

$$5 < 20$$

**B**

$$25 < 35$$

**C**

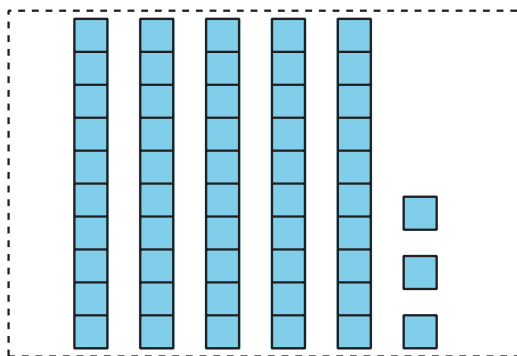
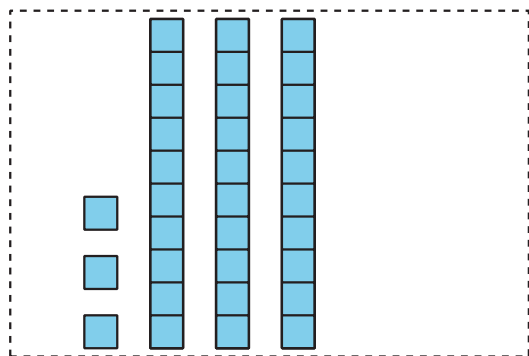
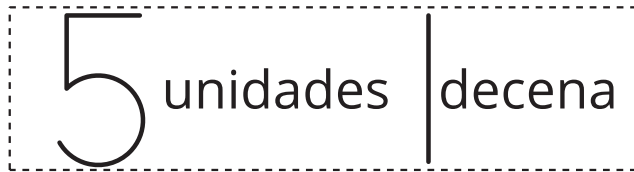
$$35 < 20$$

**D**

$$30 > 20$$

## Actividad 1

### Comparemos y ordenemos cantidades



Escoge un grupo de tarjetas.

Ordena las tarjetas de menor a mayor.

Prepárate para explicar cómo ordenaste tus tarjetas.

Escribe los números en orden, de menor a mayor.

Grupo A: \_\_\_\_\_

Grupo B: \_\_\_\_\_

Grupo C: \_\_\_\_\_

Grupo D: \_\_\_\_\_



Si te queda tiempo:

Mezcla 2 grupos de tarjetas.

Ordénalas de menor a mayor.

## Actividad 2

### Ordenemos números

1. Estos son algunos números en orden:

1                  5                  10                  50                  99

Agrega estos números a la lista:

- 49
- 8
- 25
- 98
- 13

Asegúrate de que todos los números estén ordenados de menor a mayor.

2. Escoge 2 números. Explica cómo supiste dónde ubicarlos.

◦ Yo sabía dónde ubicar  porque

---

◦ Yo sabía dónde ubicar  porque

---

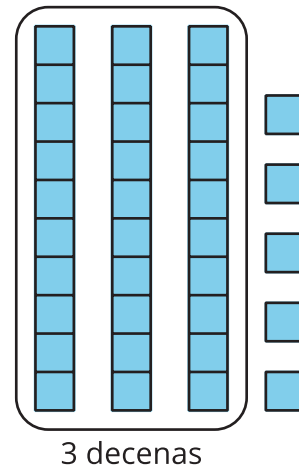
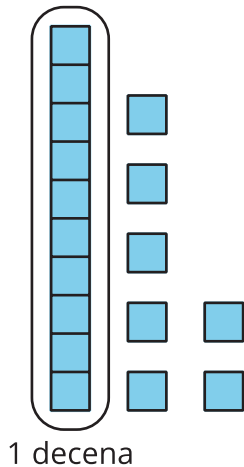
3. En cada caso, escribe un número que haga que la afirmación de comparación sea verdadera.

$25 <$

$25 >$

## Resumen de la sección C

Usamos el número de decenas y unidades para comparar números.



17 tiene 1 decena y 35 tiene 3 decenas, entonces 17 es menor que 35.

$$17 < 35$$

17 es **menor que** 35.

$$35 > 17$$

35 es **mayor que** 17.

$$35 = 35$$

35 es **igual a** 35.