



# Formemos y separemos diseños con fichas geométricas

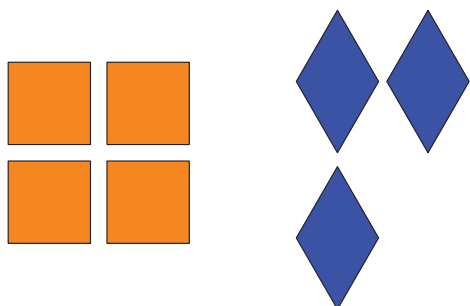
Formemos y separemos diseños hechos con fichas geométricas.




## Cuáles tres van juntos: Diseños con fichas geométricas

¿Cuáles 3 van juntos?

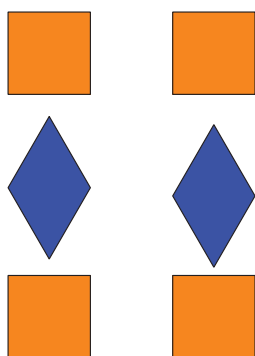
**A**




**B**



**C**




**D**



## Actividad 1

# Hagamos diseños con fichas geométricas

Mi diseño



\_\_\_\_\_




\_\_\_\_\_

## Actividad 2

### El diseño con fichas geométricas de Han

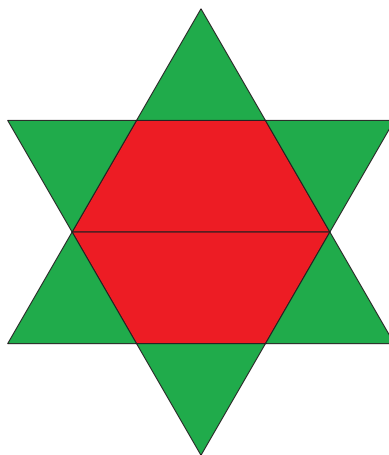
8 fichas geométricas

1.



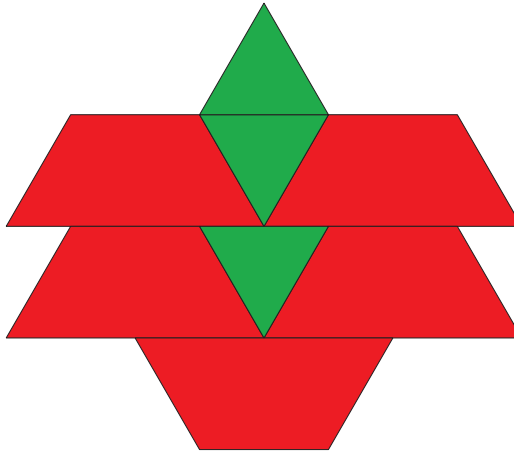
Expresión: \_\_\_\_\_

2.




Expresión: \_\_\_\_\_

3.



Expresión: \_\_\_\_\_

4.



Expresión: \_\_\_\_\_

## Actividad 3

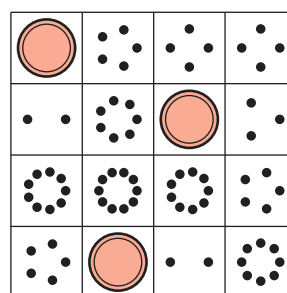
### Centros: Momento de escoger

Escoge un centro.

Márcalo



Bingo



Encuentra el valor de expresiones

$$\boxed{3+5} \quad \boxed{7-5}$$

Revuelve y saca

