



Comparemos números de 2 dígitos que se muestran de maneras diferentes

Comparemos números.



Conversación numérica: Sumas hasta 20

Encuentra mentalmente el valor de cada expresión.

- $10 + 6$

- $9 + 6$

- $10 + 7$

- $8 + 7$

Actividad 1

Elena y Kiran comparan colecciones

Elena y Kiran comparan sus colecciones.

Elena dice: “Tengo 5 decenas 32 unidades”.

Kiran dice: “Tengo 7 decenas 2 unidades”.

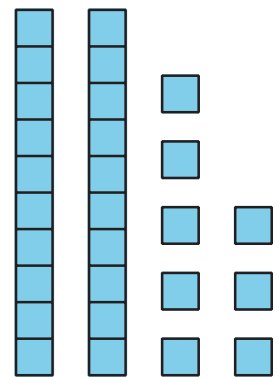
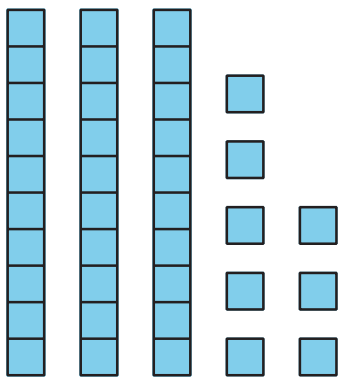
¿Quién tiene más en su colección?

Muestra cómo pensaste. Usa dibujos, números, palabras o expresiones.

Actividad 2

Comparemos representaciones en base diez

1. ¿Qué observas?



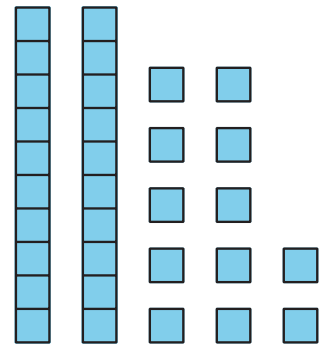
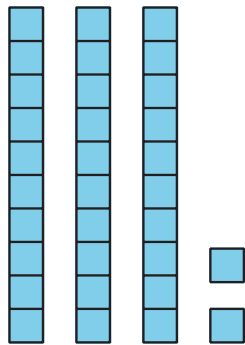
--	--

2. Marca la representación que muestra el número mayor.

Escribe un número que corresponda a cada representación.

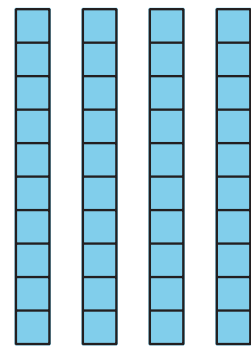
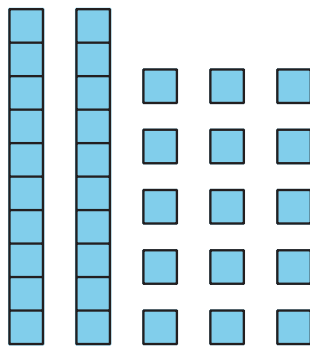
Después, usa un $<$, un $>$ o un $=$ para escribir una afirmación de comparación.

a.



--	--

b.

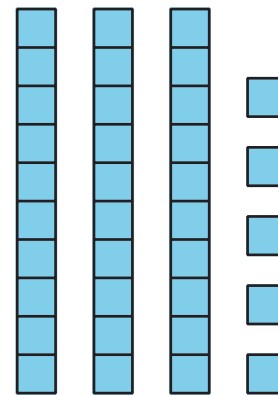


--	--

- c. 5 decenas 2 unidades 12 unidades 3 decenas

--	--

- d. 1 decena 25 unidades



--	--

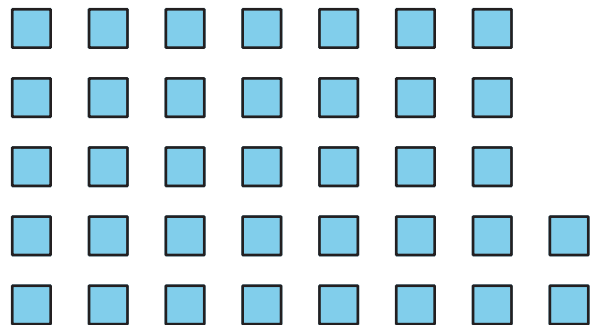

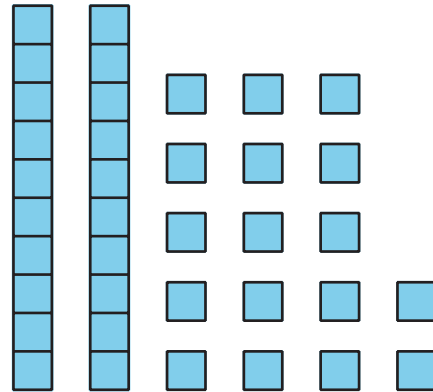
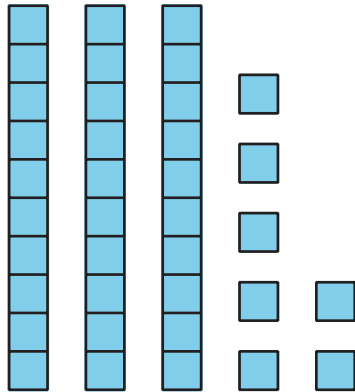
- e. 7 decenas 29 unidades $50 + 39$

--	--

Resumen de la sección D

Formamos números de 2 dígitos con diferentes cantidades de decenas y unidades.

Cada una de estas representaciones muestra 37.



Comparamos números de 2 dígitos que se formaron de diferentes maneras con decenas y unidades.

5 decenas 2 unidades y 12 unidades 3 decenas

$$52 > 42$$