

Problemas sobre mascotas

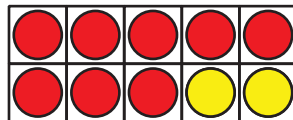
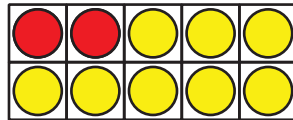
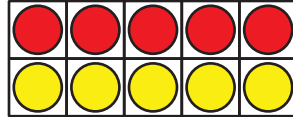
Comparemos distintas maneras de resolver problemas.

Calentamiento

Cuántos ves: Fichas de dos colores

¿Cuántos ves?

¿Cómo lo sabes?, ¿qué ves?



Actividad 1

Tres lecturas: Los peces de Kiran

Kiran tiene algunos peces en su pecera.

Tiene 4 peces rojos y 5 peces azules.

¿Cuántos peces tiene en total?

Muestra cómo pensaste. Usa dibujos, números o palabras.



Actividad 2

Las mascotas de Tyler y Clare

Tyler y Clare quieren saber cuántas mascotas tienen juntos.

Tyler tiene 2 tortugas.

Clare tiene 4 perros.

Tyler escribe $2 + 4$.

Clare escribe $4 + 2$.

¿Con quién estás de acuerdo?

Muestra cómo pensaste. Usa objetos, dibujos, números o palabras.