



Exploremos estimaciones con fracciones

Exploremos estimaciones con fracciones.

Calentamiento

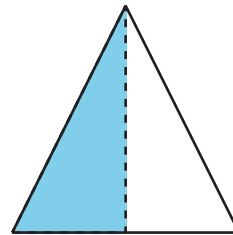
Cuáles tres van juntos: Fracciones

¿Cuáles 3 van juntas?

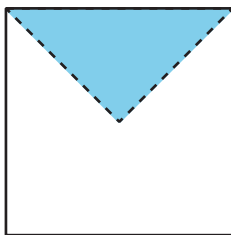
A



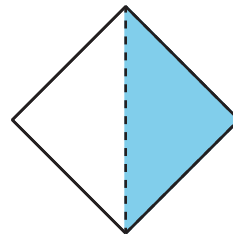
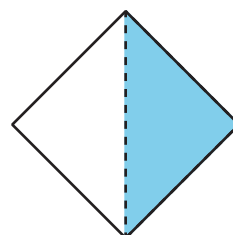
B



C



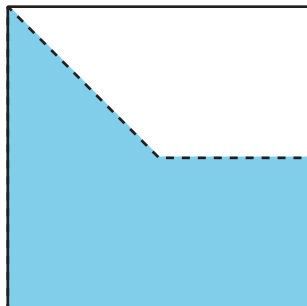
D



Actividad 1

Exploración de estimación: Diagrama

¿Qué fracción del cuadrado está sombreada?




Escribe una estimación que sea:

muy baja	razonable	muy alta

Actividad 2

Exploración de estimación: Tira de fracciones

¿Qué fracción de la tira está sombreada?



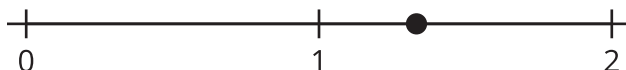
Escribe una estimación que sea:

muy baja	razonable	muy alta

Actividad 3

Exploración de estimación: Recta numérica

¿Qué número está representado por el punto en la recta numérica?



Escribe una estimación que sea:

muy baja	razonable	muy alta