




Midamos con clips

Midamos longitudes con una nueva herramienta.

Calentamiento

Exploración de estimación: Longitud del pupitre

¿Qué tan largo es el pupitre, en cubos?



Anota una estimación que sea:

muy baja	razonable	muy alta


Actividad 2

Midamos nuestro libro de trabajo

Marca si estás de acuerdo o en desacuerdo con cada estudiante.

Explica cómo razonaste.

1.




Andre dice que el libro de trabajo mide 5 clips de largo.

De acuerdo

En desacuerdo

Estoy _____ porque _____

2.




Tyler dice que el libro de trabajo mide 7 clips de largo.

De acuerdo

En desacuerdo

Estoy _____ porque _____

3.



Clare dice que el libro de trabajo mide 8 clips de largo.

De acuerdo

En desacuerdo

Estoy _____ porque _____

Actividad 3

Midamos cintas

Usa clips para medir cada cinta.

1. La longitud de la cinta A es _____ clips.
2. La longitud de la cinta B es _____ clips.
3. La longitud de la cinta C es _____ clips.
4. La longitud de la cinta D es _____ clips.
5. La longitud de la cinta E es _____ clips.
6. La longitud de la cinta F es _____ clips.

