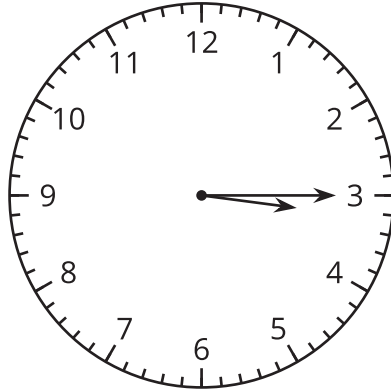
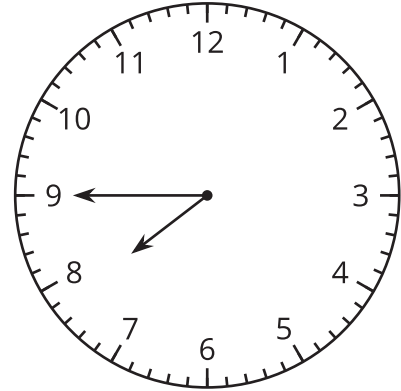


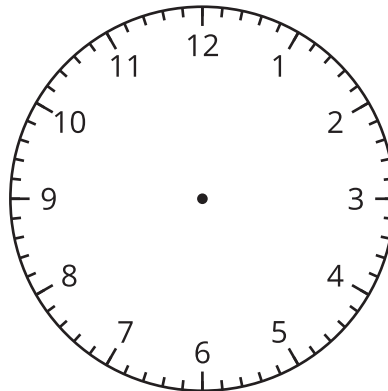
Section C: Practice Problems

1. a. En cada caso, escribe la hora que muestra el reloj. Usa las palabras 'y media', 'y cuarto' o 'un cuarto para'.

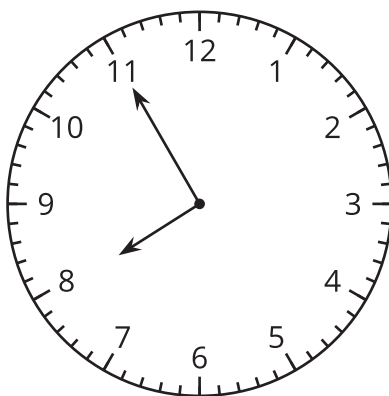




- b. Dibuja las manecillas del reloj para mostrar las 5 y media.



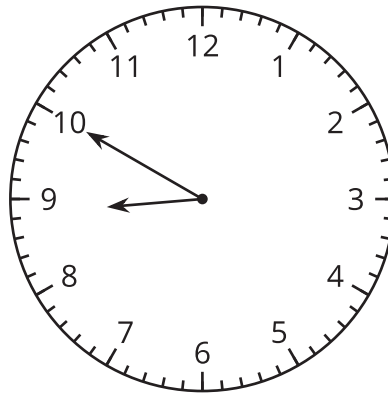
(de la Unidad 6, Lección 11)



2. Priya dice que el reloj muestra que son las 7:11. ¿Estás de acuerdo con Priya? Explica tu razonamiento.

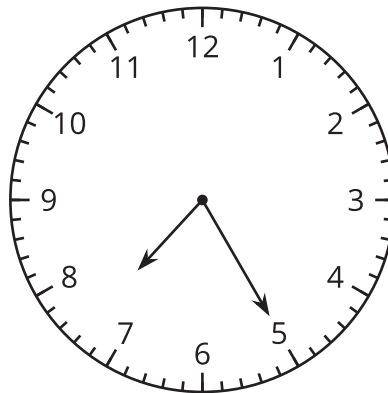
(de la Unidad 6, Lección 12)

3. a.



El reloj muestra la hora a la que Clare se fue a dormir.
Escribe la hora, incluye a.m. o p.m. _____

b.



El reloj muestra la hora a la que Noah llegó a la escuela.
Escribe la hora, incluye a.m. o p.m. _____

(de la Unidad 6, Lección 13)

4. Exploración

Mai llegó a la escuela a las 7:35 a.m. Se fue de la escuela 375 minutos después. ¿A qué hora se fue Mai a su casa? Explica tu razonamiento.

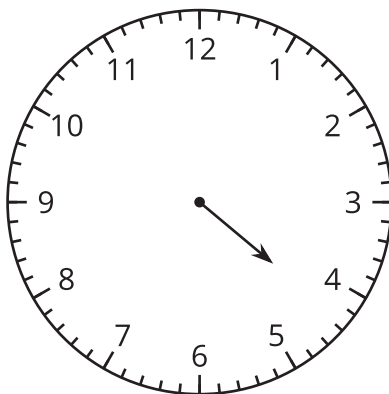
5. Exploración

Completa la tabla con algunas de las cosas que haces durante el día y la hora de cada actividad.

actividad	hora
levantarme	
salir para la escuela	

6. Exploración

Este reloj solo tiene la manecilla de las horas.



¿Qué puedes decir de la hora que muestra el reloj?
