


## Section B: Practice Problems

1. ¿Cuántos puntos hay?

a.




b.



(de la Unidad 2, Lección 7)

2. ¿Hay más platos o manzanas?



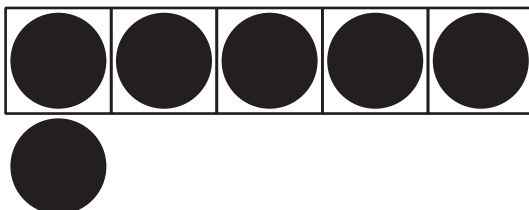
(de la Unidad 2, Lección 8)

3. Marca el tablero de 5 que tiene más puntos.

A.




B.

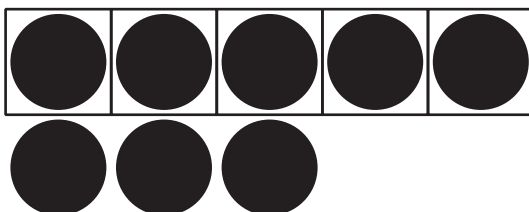


Marca el grupo que muestra menos cosas.

A.









B.



(de la Unidad 2, Lección 9)


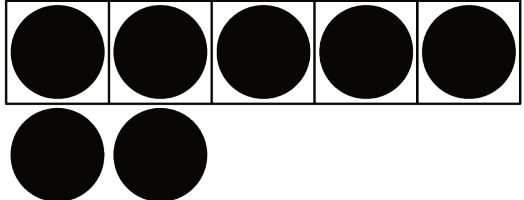



4. Marca los 3 grupos que muestran más que este tablero de 5.



Marca los 3 grupos que muestran menos que este tablero de 5.



(de la Unidad 2, Lección 10)

5. Este es un dibujo.



a. Haz un dibujo con más cosas.

b. Haz un dibujo con menos cosas.

(de la Unidad 2, Lección 11)

## 6. Exploración

Haz un grupo de tarjetas con imágenes.

Algunas tarjetas pueden tener el mismo número de imágenes y algunas tarjetas pueden tener números distintos de imágenes.

Intercambia tus tarjetas con un compañero.

Voltea dos tarjetas y decide si tienen el mismo número o si una tiene menos y otra tiene más.

## 7. Exploración

¿Hay menos estudiantes que sillas?  
Explica cómo lo sabes.



