



# Formemos números con 10 y más (parte 1)

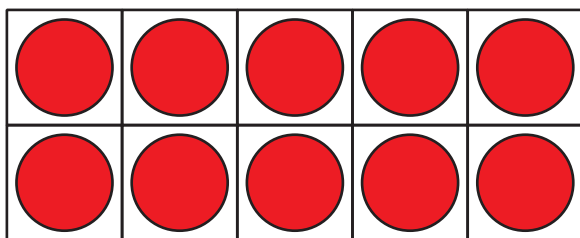
Completemos tableros de 10 y pongamos unos más.



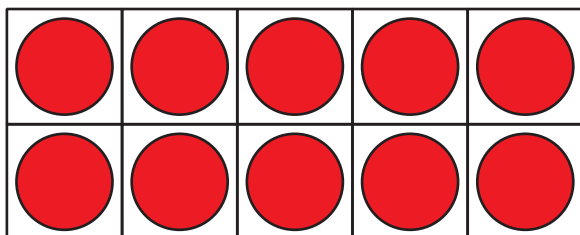
## Actividad 2

### Agreguemos más fichas

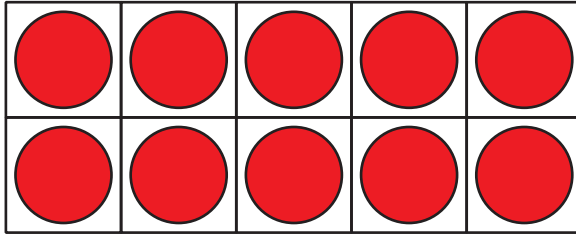
número



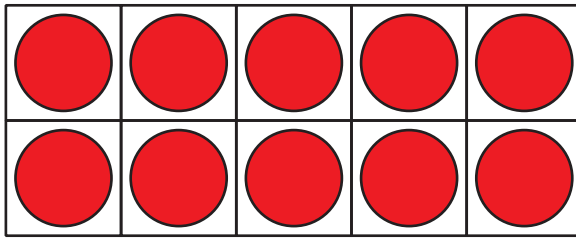
---



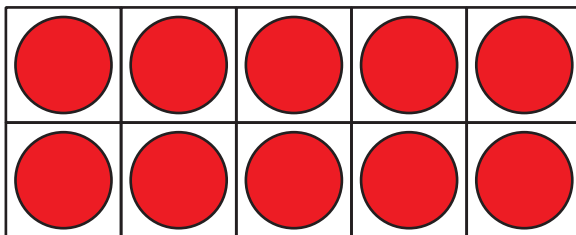
---



\_\_\_\_\_



\_\_\_\_\_




\_\_\_\_\_

## Actividad 3

### Centros: Momento de escoger

Escoge un centro.

Carrera con números



Construcción de torres



Agarra y cuenta



Encuentra la pareja

