



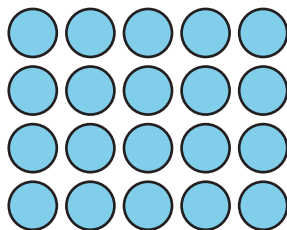


# ¿Qué es el área?

Comparemos el tamaño de algunas figuras.

Calentamiento

## Cuántos ves: Arreglos

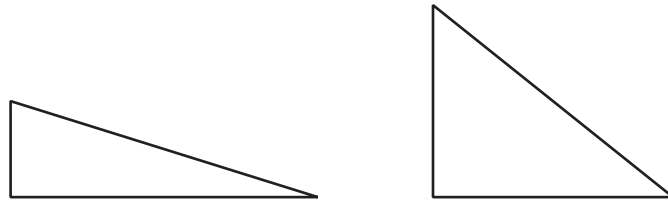
¿Cuántos ves? ¿Cómo lo sabes?, ¿qué ves?



## Actividad 1

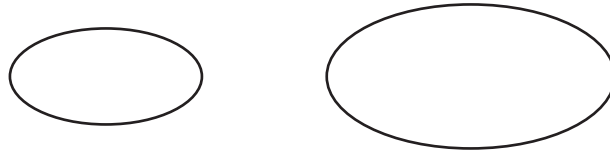
### Comparemos figuras

1. Estos son 2 triángulos. ¿Cuál triángulo es más grande?

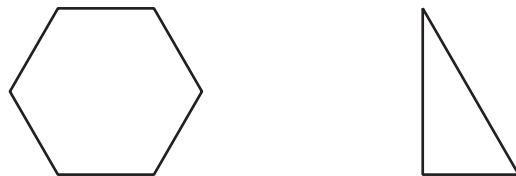


2. En cada pareja de figuras, ¿cuál figura es más grande? Prepárate para explicar tu razonamiento.


a.



b.



c.



## Actividad 2

### Fichas geométricas para comparar figuras

Tu profesor te va a dar unas hojas que tienen algunas figuras.

Usa fichas geométricas para decidir cuál figura cubre más espacio.

Prepárate para explicar tu razonamiento.

