



# ¿Cómo medimos el área?

Usemos fichas cuadradas para medir el área.

## Calentamiento

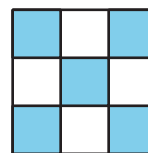
### Cuáles tres van juntos: Figuras con cuadrados

¿Cuáles tres van juntas?


A



B



C




D



## Actividad 1

### Construyamos y comparemos

1. Toma un puñado de fichas cuadradas.
2. Haz una figura plana uniendo las fichas.
3. Con tu grupo, ordena las figuras de la más pequeña a la más grande.



## Actividad 2

### Usemos fichas cuadradas para medir el área

Tu profesor te va a dar unas hojas que tienen figuras.

Usa fichas cuadradas para encontrar el área de cada figura. El área de cada ficha es 1 unidad cuadrada. Escribe tus respuestas aquí. Prepárate para explicar tu razonamiento.

1. Área: \_\_\_\_ unidades cuadradas

2. Área: \_\_\_\_ unidades cuadradas

3. Área: \_\_\_\_ unidades cuadradas

4. Área: \_\_\_\_ unidades cuadradas

5. Área: \_\_\_\_ unidades cuadradas

6. Área: \_\_\_\_ unidades cuadradas

