

## Kínder Unidad 8

Lección 19

CC BY 2021 Illustrative Mathematics®

## Unit 8 Lesson 19: Encontremos el número con el que se forma


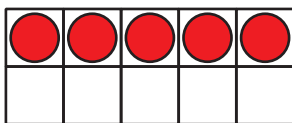

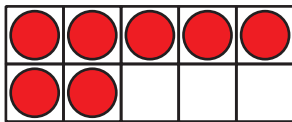

### 10

#### WU Cuántos ves: Formemos 10 (Warm up)

##### Student Task Statement

¿Cuántos ves?

¿Cómo lo sabes?, ¿qué ves?



#### 1 Coloreemos el número con el que se forma 10

##### Student Task Statement

- Compañero A: colorea 1 número.
- Compañero B: colorea del mismo color el número con el que se forma 10.
- Intercambien roles, cambien de color y repitan estos pasos.

---

10	5	3	2
7	1	9	8
4	8	9	4
6	2	3	0
1	7	5	6

Escoge tu manera favorita de formar 10.  
Completa la ecuación.

$$10 = \underline{\quad} + \underline{\quad}$$

## 2 Sumemos para formar 10

Student Task Statement

Completa las ecuaciones para mostrar maneras de formar 10.

- $10 = 9 + \underline{\quad}$
- $10 = 3 + \underline{\quad}$
- $10 = 5 + \underline{\quad}$
- $10 = 4 + \underline{\quad}$
- $10 = 8 + \underline{\quad}$
- $10 = 7 + \underline{\quad}$


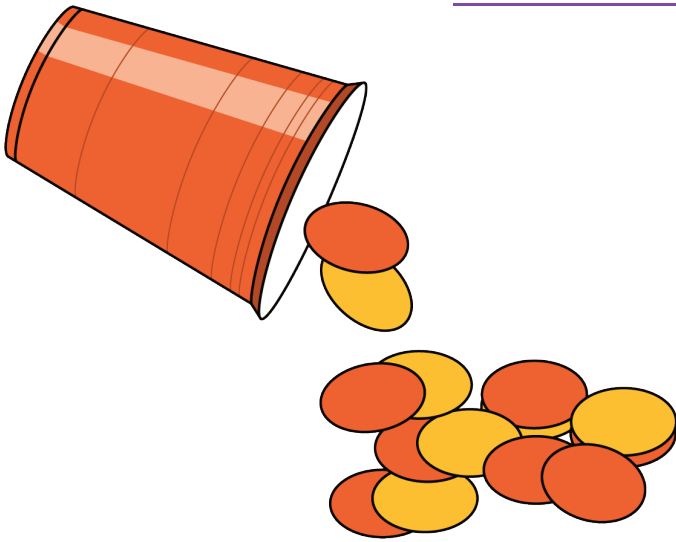
## 3 Centros: Momento de escoger

Student Task Statement


Escoge un centro.

Revuelve y saca


Carrera con números



Agarra y cuenta



¿Qué hay a mis espaldas?



Fichas geométricas

