



Fracciones equivalentes

Identifiquemos fracciones equivalentes.

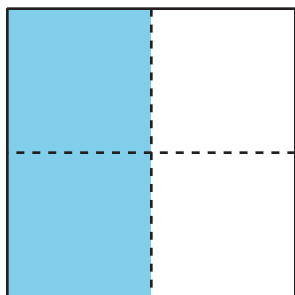


Actividad 1

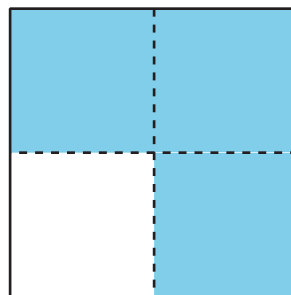
Equivalente a $\frac{1}{2}$

1. ¿En cuáles figuras la sección sombreada cubre $\frac{1}{2}$ de la figura? Prepárate para explicar tu razonamiento.


A



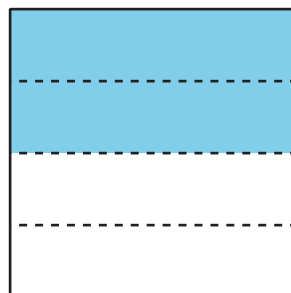
B




C




D



E



F



2. ¿Por qué puede haber más de una manera de colorear una figura para mostrar $\frac{1}{2}$?

Actividad 2

Encontremos fracciones equivalentes

Usa las tiras de fracciones que usaste en una lección anterior para encontrar tantas fracciones como puedas que sean equivalentes a:

1. $\frac{1}{2}$

2. $\frac{2}{3}$

3. $\frac{6}{6}$

4. $\frac{3}{4}$

Prepárate para mostrar cómo sabes que las fracciones son equivalentes.

