



Ubiquemos fracciones unitarias en la recta numérica

Partamos la recta numérica para ubicar fracciones unitarias.

Calentamiento

Cuáles tres van juntos: Detalles de fracciones

¿Cuáles 3 van juntas?

A



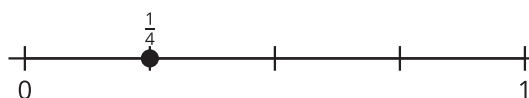
B



C



D



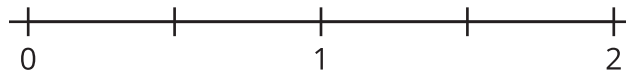
Actividad 1

Partamos en cuartos

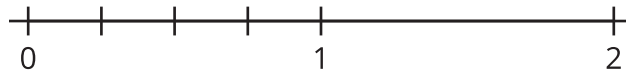
Tres estudiantes parten una recta numérica en cuartos. Este es su trabajo.



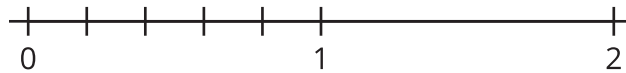
Recta numérica de Clare:



Recta numérica de Andre:



Recta numérica de Diego:






¿Cuál de estas particiones tiene más sentido para ti? Explica tu razonamiento.

Actividad 2

Fracciones unitarias en la recta numérica

Parte cada recta numérica. Ubica y marca cada fracción.



8. $\frac{1}{3}$

