




Midamos para encontrar el área

Midamos los lados de algunos rectángulos y encontremos el área.

Calentamiento

Observa y pregúntate: Grupos y arreglos

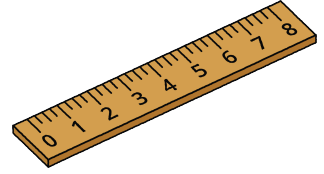
¿Qué observas? ¿Qué te preguntas?




Actividad 1

Midamos para encontrar el área


Usa una regla para medir en centímetros los lados de cada rectángulo. Después, calcula el área de cada rectángulo, en centímetros cuadrados.



A



C



B



Actividad 2

Hagamos un rectángulo

Tu profesor te va a dar un poco de cinta. Úsala para crear un rectángulo que tenga el área que le asignaron a tu grupo.

- Área A: 4 pies cuadrados
- Área B: 6 pies cuadrados
- Área C: 9 pies cuadrados
- Área D: 10 pies cuadrados
- Área E: 12 pies cuadrados
- Área F: 16 pies cuadrados

