



Estimemos y midamos en centímetros

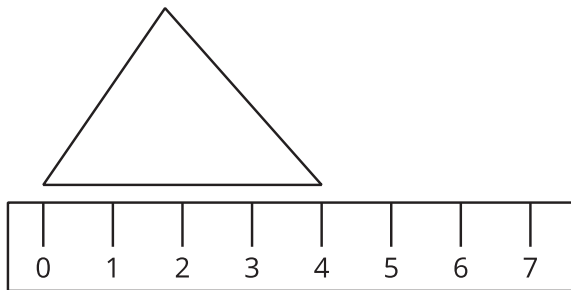
Estimemos y midamos en centímetros.

Calentamiento

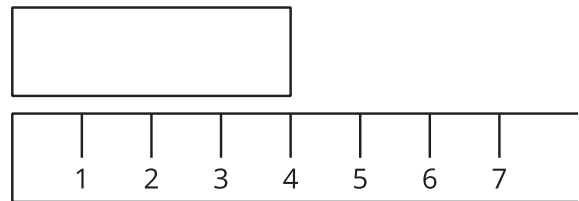
Cuáles tres van juntos: Longitud

¿Cuáles 3 van juntas?

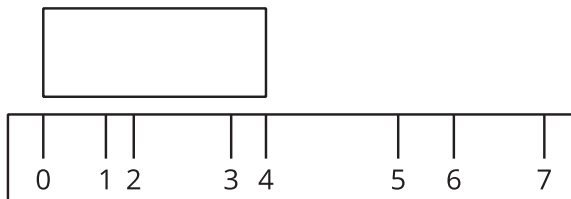
A



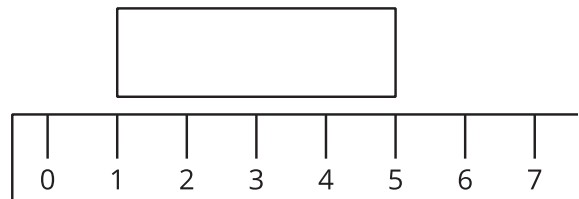
B



C



D



Actividad 1

Estimemos la longitud en centímetros

1. Escribe una estimación que sea:

muy baja	razonable	muy alta

2. Escribe una estimación que sea:

muy baja	razonable	muy alta

3. Escribe una estimación para cada objeto.

4. Cuéntale a tu compañero por qué tus estimaciones son “razonables”.

Hoja de registro

objeto	estimación	medida
Escoge un objeto:		



Actividad 2

Midamos y comparemos

1. Mide cada objeto y anota su medida en tu hoja de registro.
Escribe cada longitud en centímetros.
2. Compara las medidas con tus estimaciones.

