



Una parte roja, una parte amarilla

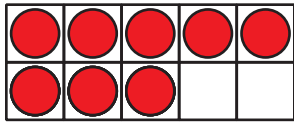
Pensemos en separar números y juntarlos de nuevo.

Calentamiento

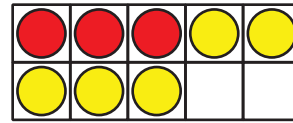
Cuáles tres van juntos: Fichas de dos colores

¿Cuáles 3 van juntos?

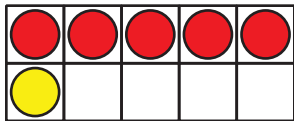
A



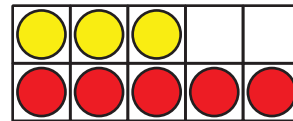
B



C




D



Actividad 2

Problemas-historia de “Revuelve y saca”

1. Elena juega “Revuelve y saca”.
Ella tiene 7 fichas.

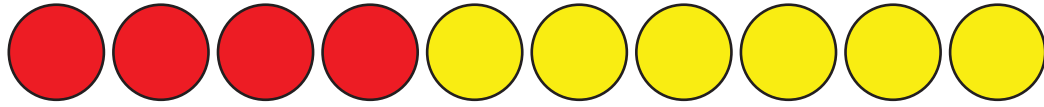


¿De qué maneras podrías mostrar algunas rojas y algunas amarillas?

Muestra cómo pensaste. Usa dibujos, números o palabras.

2. Tyler juega “Revuelve y saca”.

Él saca estas fichas:



Escribe 2 expresiones que muestren sus fichas.

3. Muestra otras combinaciones de fichas rojas y amarillas que Tyler puede sacar.

Muestra cómo pensaste. Usa dibujos, números o palabras.

Si te queda tiempo, resuelve los siguientes problemas:

1. ¿Cuáles son todas las combinaciones que Elena puede obtener?

¿Cómo lo sabes?

2. ¿Cuáles son todas las combinaciones que Tyler puede obtener?

¿Cómo lo sabes?

