



# **Clasifiquemos, contemos y comparemos grupos de objetos**

Descifremos cuál grupo tiene más o menos.



## Actividad 1

### Clasifiquemos, contemos y comparemos

¿Cuántas chaquiras hay?

Muestra cómo pensaste. Usa objetos, dibujos, números o palabras.

---

---

Marca el grupo que tiene menos.

## Actividad 2

### ¿Quién tiene más?

1. ¿Cuántas hay en cada uno?

Muestra cómo pensaste. Usa objetos, dibujos, números o palabras.

---

---

2. ¿Cuántas hay en total?

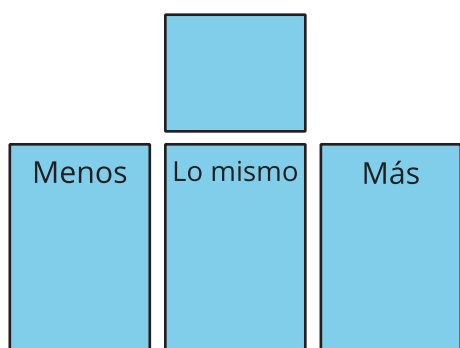
---

## Actividad 3


### Centros: Momento de escoger

Escoge un centro.

Menos, lo mismo, más


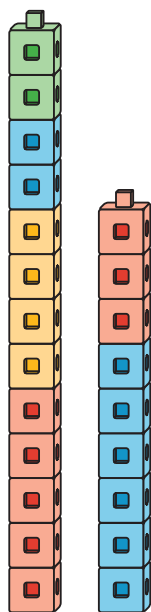


Dedos matemáticos



Historias matemáticas

Construcción de torres



¿Cuál es?

