



# Partes que forman 5

Encontremos el número desconocido.



## Calentamiento

### Cuántos ves: Sumemos y restemos

¿Cuántos ves?

¿Cómo lo sabes?, ¿qué ves?



## Actividad 1

### Retomemos “Revuelve y saca: Cubre (hasta 10)”

Pon 3, 4 o 5 fichas en el vaso.

Revuelve y saca las fichas.

Esconde algunas debajo del vaso.

¿Cuántas están escondidas?

Escribe una expresión.

## Actividad 2

### El valor desconocido

Escribe el número desconocido.

$$3 - \underline{\quad} = 2$$

$$5 - \underline{\quad} = 4$$

$$2 + \underline{\quad} = 2$$

$$3 + \underline{\quad} = 4$$

$$5 - \underline{\quad} = 2$$

$$4 - \underline{\quad} = 4$$

$$1 + \underline{\quad} = 2$$

$$2 + \underline{\quad} = 4$$



$5 - \underline{\quad\quad} = 3$

$1 + \underline{\quad\quad} = 5$

$2 + \underline{\quad\quad} = 3$

$4 + \underline{\quad\quad} = 5$

$4 - \underline{\quad\quad} = 3$

$5 - \underline{\quad\quad} = 5$

$0 + \underline{\quad\quad} = 3$

$3 + \underline{\quad\quad} = 5$

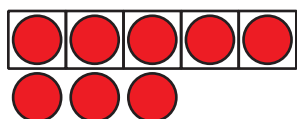


## Actividad 3

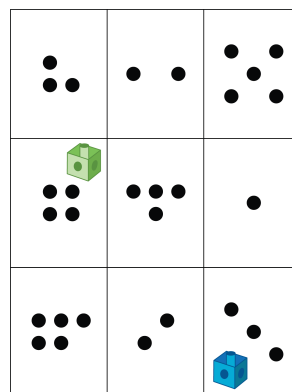
### Centros: Momento de escoger

Escoge un centro.

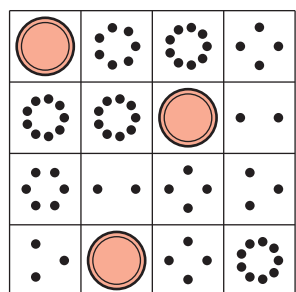
Tableros de 5




Lanza y suma



Bingo



Bloques sólidos geométricos



Encuentra el valor de expresiones

$$3+5 \quad 7-5$$