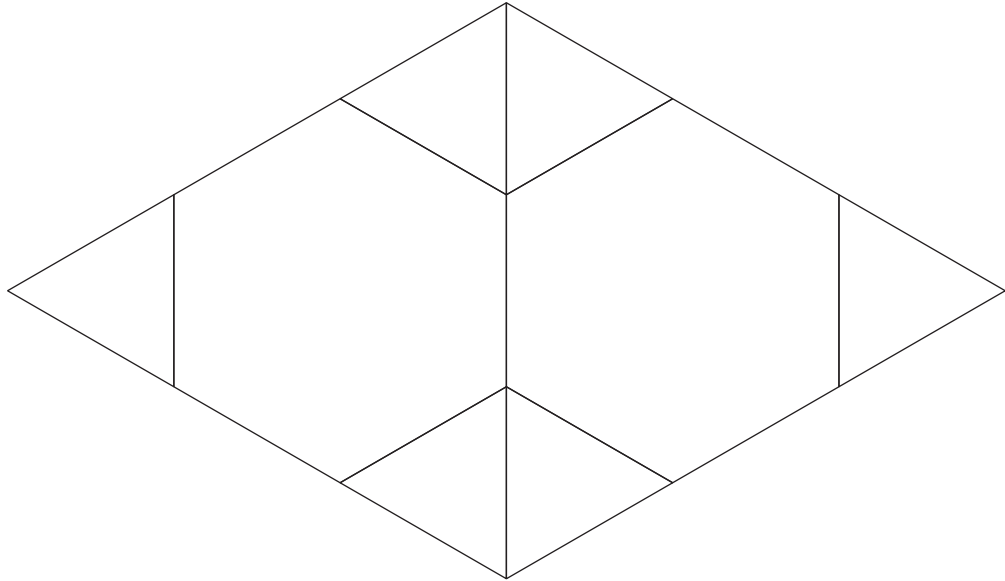


Section B: Practice Problems

1. a. Completa el rompecabezas de fichas geométricas.




- b. ¿Cuántos triángulos verdes usaste? _____

- c. ¿Cuántos hexágonos amarillos
usaste?

(de la Unidad 3, Lección 10)

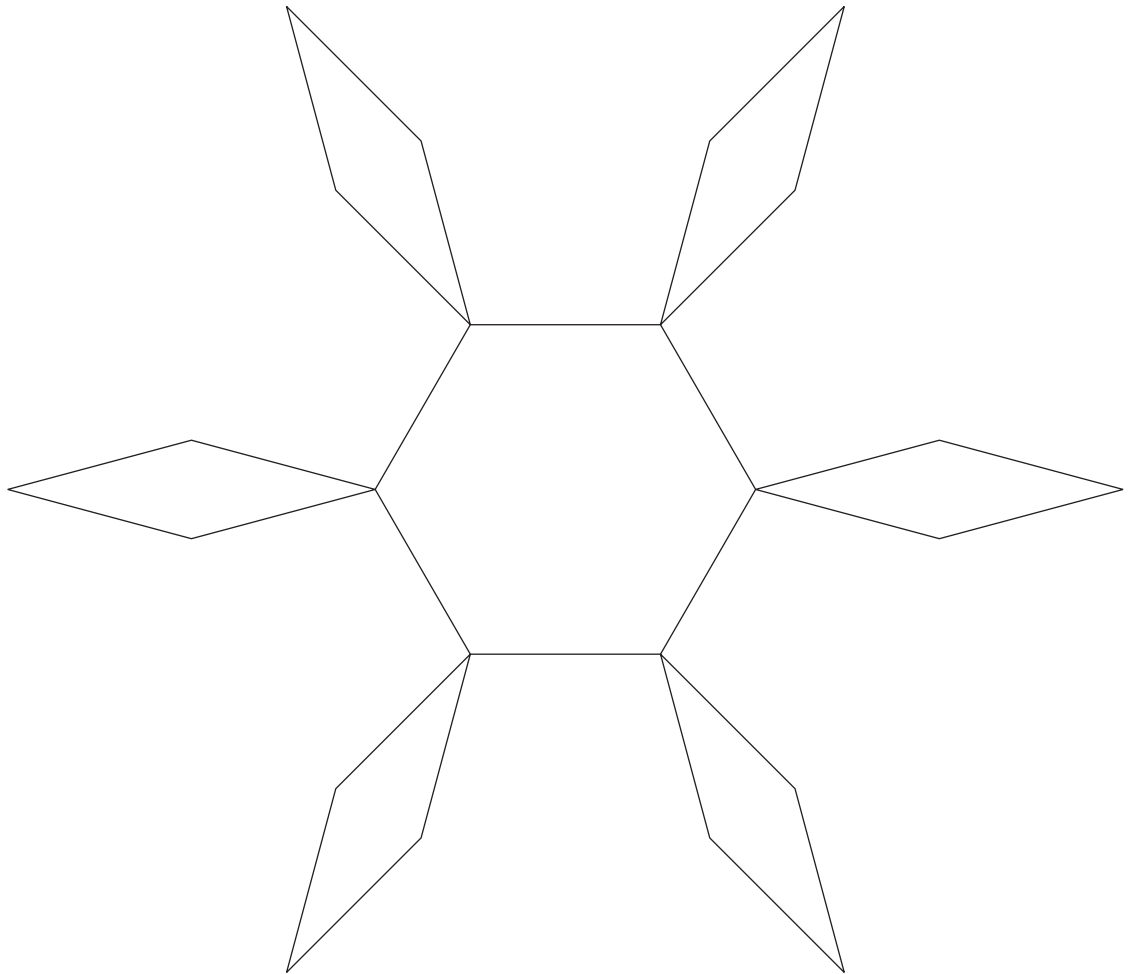
2. a. Colorea todos los cuadrados.



b. ¿Cuántos cuadrados coloreaste?

(de la Unidad 3, Lección 11)

3. Completa el rompecabezas.



¿Puedes completar el rompecabezas de otra manera?

(de la Unidad 3, Lección 12)

4. a. Construye una figura con un hexágono, 3 triángulos y un cuadrado.
- b. Describe en qué parte de la figura está el cuadrado.

(de la Unidad 3, Lección 13)

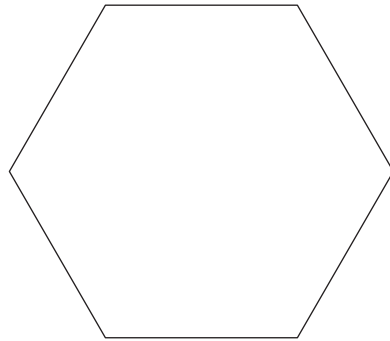
5. ¿Qué figuras reconoces en la imagen?



(de la Unidad 3, Lección 14)

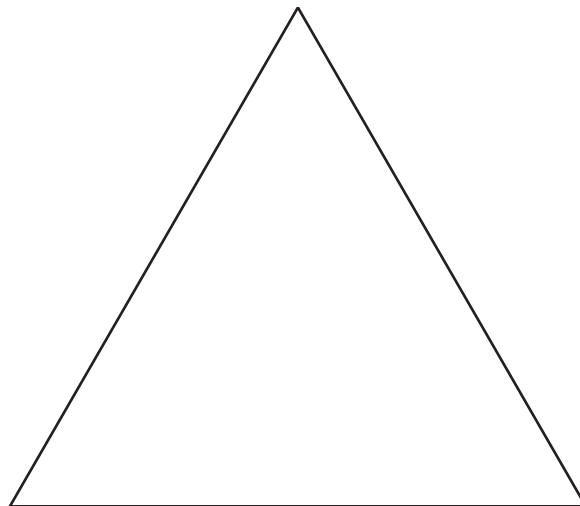
6. Exploración

¿De cuántas maneras diferentes puedes completar el rompecabezas?



7. Exploración

- a. Completa el rompecabezas de fichas geométricas de varias maneras diferentes.



- b. Jada completó el rompecabezas con 9 fichas geométricas.
¿Cuáles fichas geométricas crees que usó Jada?
- c. ¿Puedes completar el rompecabezas con 3 fichas geométricas?

