



Marcas sin números

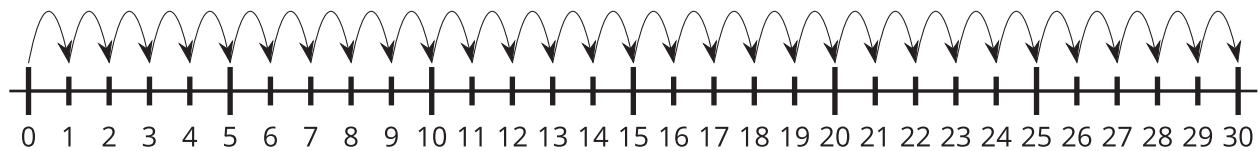
Ubiquemos números en la recta numérica.

Calentamiento

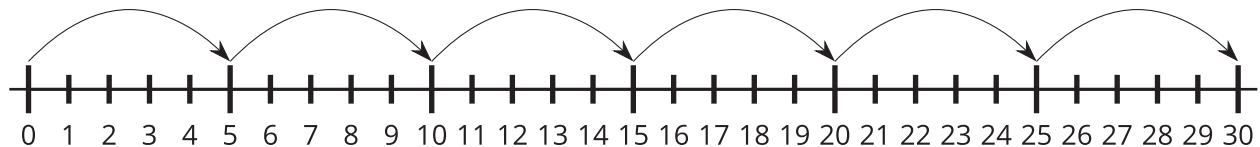
Observa y pregúntate: De 0 a 30

¿Qué observas? ¿Qué te preguntas?

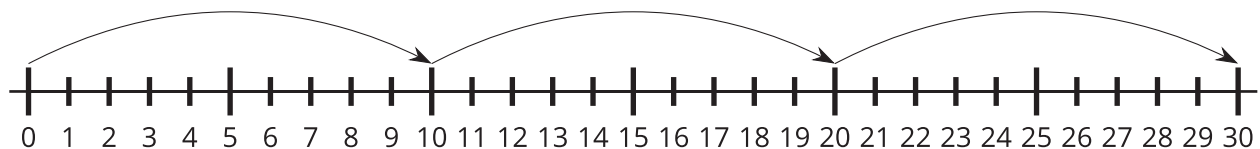
A



B



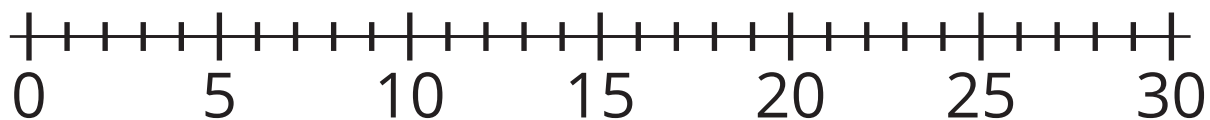
C



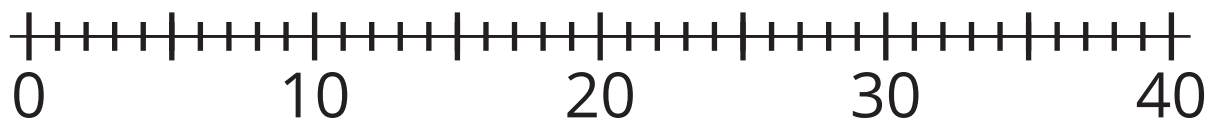
Actividad 1

Ubiquemos los números

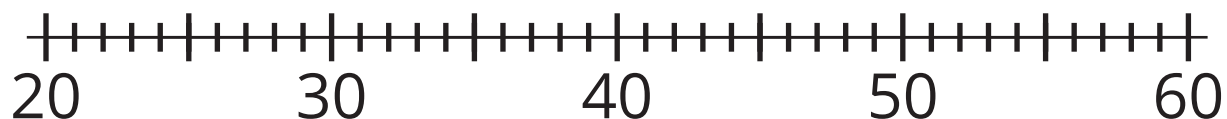
1. Ubica el 24. Márcalo con un punto.



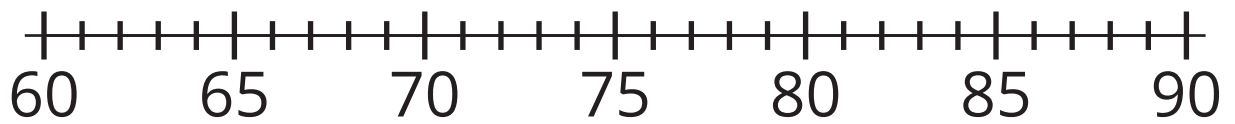
2. Ubica el 37. Márcalo con un punto.



3. Ubica el 48. Márcalo con un punto.



4. Ubica el 83. Márcalo con un punto.



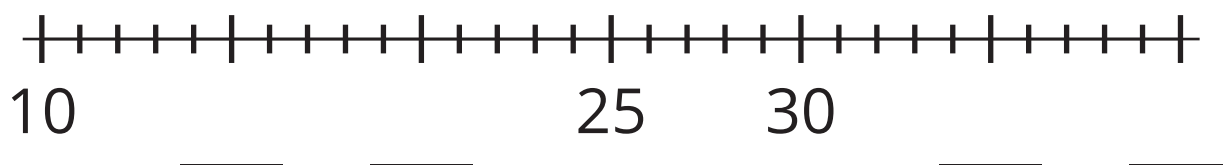
5. ¿Los números que marcaste en las rectas numéricas están ubicados en el lugar correcto? ¿Cómo lo sabes?

Actividad 2

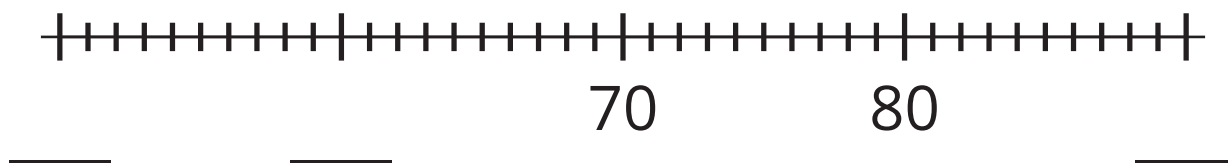
¿Te falta algo?

Completa cada recta numérica. Llena cada espacio con el número que la marca representa. Ubica cada número. Márcalo con un punto. Escribe debajo el número que le corresponde.

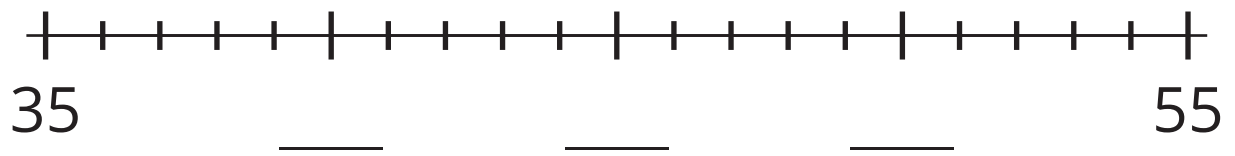
1. Ubica y marca el 17.



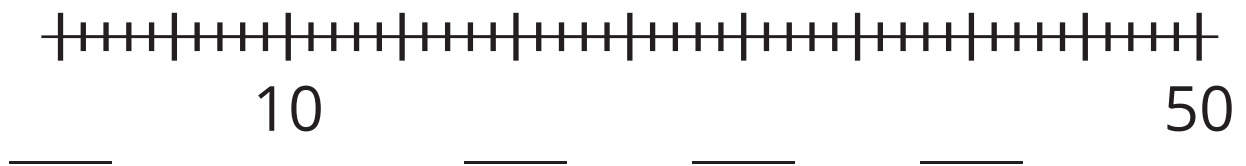
2. Ubica y marca el 59.



3. Ubica y marca el 43.



4. Ubica y marca el 35.



5. Comparte tus rectas numéricas con tu compañero.

