



# Conectemos cantidades con números

Descubramos cuáles grupos de objetos van con cuáles números.





## Calentamiento

### Cuántos ves: Imágenes relámpago

¿Cuántos ves?

¿Cómo lo sabes?, ¿qué ves?



## Actividad 2

### Estaciones de conteo

número de objetos	nombre de la bolsa
1	
2	
3	
4	
5	


número de objetos	nombre de la bolsa
6	
7	
8	
9	
10	

## Actividad 3


# Retomemos “Carrera con números: Números del 1 al 10”

Escoge un centro.

Carrera con números



Bloques sólidos geométricos



Dedos matemáticos

