



Contemos dos grupos de imágenes

Contemos cosas que están en 2 grupos.



Actividad 1

Juntemos puntos en tableros de 5

Hay _____ puntos.

Hay _____ puntos.

Hay _____ puntos.

Hay _____ puntos.


Hay _____ puntos.



Actividad 2


¿Cuántas manzanas?

1.




Hay _____ manzanas.

2.




Hay _____ manzanas.

3.



Hay _____ manzanas.

4.



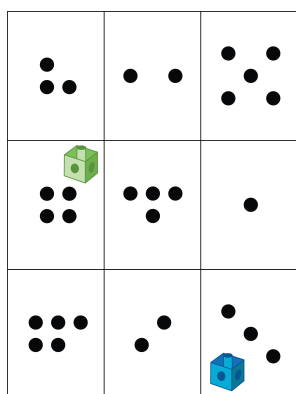
Hay _____ manzanas.

Actividad 3

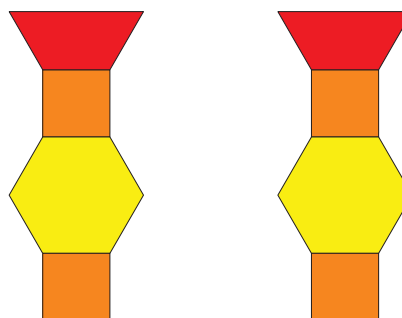
Conozcamos “Lanza y suma: Puntos”

Escoge un centro.


Lanza y suma



Haz una como la mía



Mi mate-libreta



Construcción de torres

