



# Contemos 2 grupos de dibujos que están en desorden

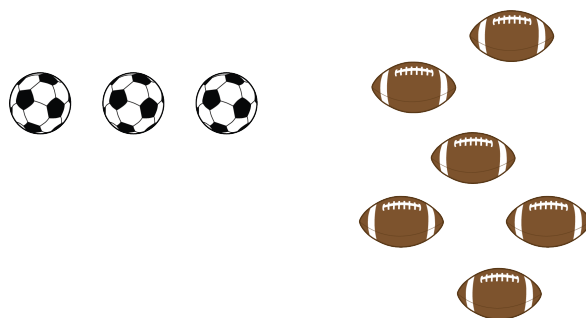
Contemos cosas que están en 2 grupos.



## Actividad 1

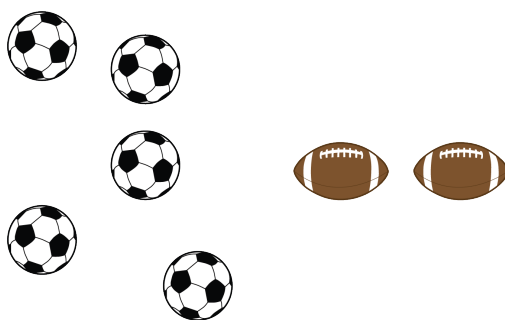
### Contemos dibujos en orden y en desorden

1.




Hay \_\_\_\_\_ balones.

2.



Hay \_\_\_\_\_ balones.

3.




\_\_\_\_\_

-----

Hay \_\_\_\_\_ balones.

4.



\_\_\_\_\_

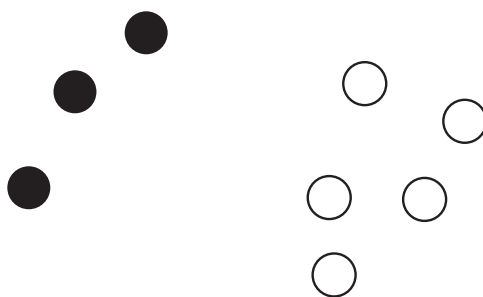
-----

Hay \_\_\_\_\_ balones.

## Actividad 2

### Contemos dibujos que están en desorden

1.




\_\_\_\_\_

-----

Hay \_\_\_\_\_ círculos.

2.

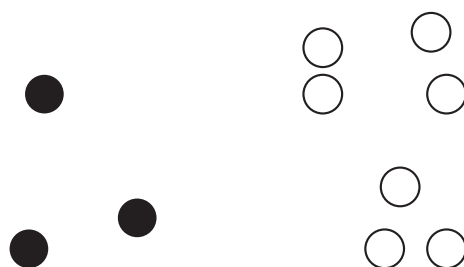


\_\_\_\_\_

-----

Hay \_\_\_\_\_ círculos.

3.




\_\_\_\_\_

-----

Hay \_\_\_\_\_ círculos.

4.



\_\_\_\_\_

-----

Hay \_\_\_\_\_ círculos.

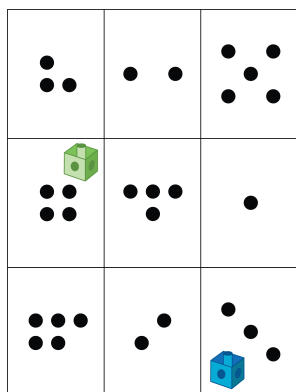


## Actividad 3

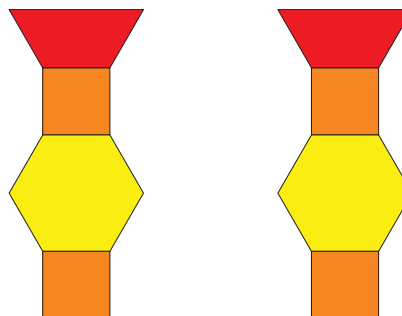
### Centros: Momento de escoger

Escoge un centro.


Lanza y suma



Haz una como la mía



Mi mate-libreta



Construcción de torres

