



Formemos 10 para sumar

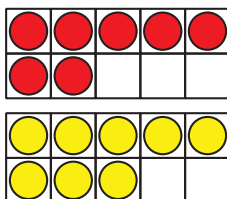
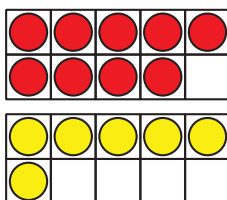
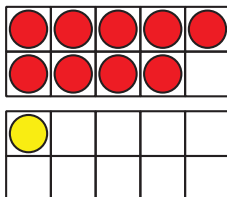
Busquemos patrones y pensemos en formar 10 mientras sumamos.



Cuántos ves: Tableros de 10 dobles

¿Cuántos ves?

¿Cómo lo sabes?, ¿qué ves?



Actividad 1

El juego de 9 más algo

- Pon 9 fichas.
- Toma una tarjeta de números y agrega esa cantidad de fichas.
- Escribe una ecuación para representar las fichas.
¿Puedes escribir más de una?

Ecuaciones:

Ronda 1: _____

Ronda 2: _____

Ronda 3: _____

Ronda 4: _____

Ronda 5: _____



Actividad 2

Las aves de Clare

1. Clare dibuja algunas aves.

Ella dibuja 3 aves en un nido y 9 aves volando.

¿Cuántas aves dibujó?

Muestra cómo pensaste. Usa dibujos, números o palabras.

2. Clare dibuja aves de clima cálido.

Ella dibuja 6 tucanes y 8 loros.

¿Cuántas aves dibujó?

Muestra cómo pensaste. Usa dibujos, números o palabras.

3. Clare dibuja aves de clima frío.

Ella dibuja 7 pingüinos y 5 búhos.

¿Cuántas aves dibujó?

Muestra cómo pensaste. Usa dibujos, números o palabras.

