


Relacionemos contar con la suma y con la resta

Restemos contando hacia adelante o quitando.

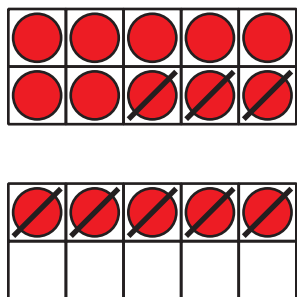


Actividad 1

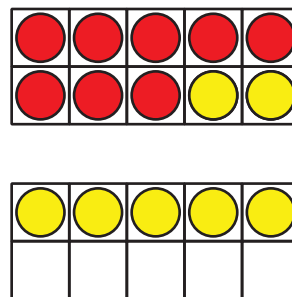
Diferentes métodos para restar

Vimos 2 formas de encontrar el valor de $15 - 8$.

Método de Diego



Método de Tyler



Encuentra el valor de cada diferencia. Usa el método de Diego. Después, usa el método de Tyler.

Método de Diego

Método de Tyler

1. $16 - 3$

2. $17 - 8$

3. $18 - 15$

Actividad 2

Encontremos el número que hace que la ecuación sea verdadera

Encuentra el número que hace que la ecuación sea verdadera.

Grupo A:

1. $12 - 7 =$

2. $18 - 5 =$

3. = $14 - 6$

4. $15 - 12 =$

5. $13 - 4 =$

Grupo B:

$$1. 5 + \square = 18$$

$$2. 13 = \square + 6$$

$$3. 20 = 15 + \square$$