



¿Cuál es la historia?

Resolvamos problemas-historia.



Conversación numérica: Restemos 10 o más

Encuentra mentalmente el valor de cada expresión.

- $15 - 10$

- $15 - 12$

- $16 - 10$

- $16 - 13$

Actividad 1

Resolvamos problemas-historia relacionados

Muestra cómo pensaste. Usa dibujos, números o palabras.

1. Elena tiene 6 fichas.

Ella trae más.

Ahora tiene 18 fichas.

¿Cuántas fichas más trajo Elena?

2. Elena tiene 18 fichas.
Ella regala algunas.
Ahora tiene 6 fichas.
¿Cuántas fichas regaló Elena?

Actividad 2

Más problemas-historia

Problema-historia 1

Han tiene
algunos lápices.
Él recibe 9 más.
Ahora tiene 15 lápices.
¿Cuántos lápices tenía
Han al principio?

Problema-historia 2

Han tiene 15 lápices.
Les da algunos a
sus amigos.
Ahora tiene 9 lápices.
¿Cuántos lápices les dio
Han a sus amigos?

Problema-historia 3

Han tiene 9 lápices.
Él compró algunos más
en la tienda.
Ahora tiene 15 lápices.
¿Cuántos lápices
compró Han
en la tienda?

Problema-historia 4

Han tiene 15 lápices.
Les da 9 a sus amigos.
¿Cuántos lápices tiene
Han ahora?

Muestra cómo pensaste. Usa dibujos, palabras o números.

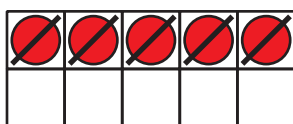
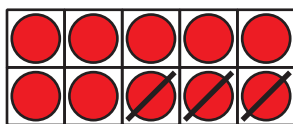


Resumen de la sección D

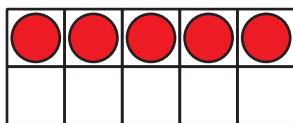
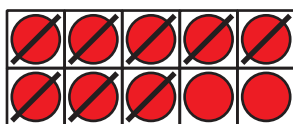
Usamos distintos métodos para restar hasta 20.

Usamos métodos para restar quitando.

$$15 - 8$$



Usamos una decena para quitar 8.



Usamos métodos para restar contando hacia adelante.

$$15 - 8$$

8... 9, 10, 11, 12, 13, 14, 15

Usamos una decena
para contar hacia adelante.

$$8 + 2 = 10$$

$$10 + 5 = 15$$

$$2 + 5 = 7$$